


ΕΙΣΑΓΩΓΗ ΣΤΗΝ ΑΡΧΑΙΑ ΕΛΛΗΝΙΚΗ ΕΠΙΓΡΑΦΙΚΗ

Σοφία Ανεζίση


Προσπαθήστε να τοποθετήσετε τις επιγραφές που απεικονίζονται στις φωτογραφίες σε εποχή (κλασική, ελληνιστική, ρωμαϊκή) ή και σε αιώνα βάσει των γραμμάτων.

1.



IG I³35

περ. 448 π.Χ., Αττική



ΤΤΑ
ΑΜΤ
ΚΑΙΤ
ΔΟΠ

I.Aphrodisias 15.216
3^{ος} αι. π.Χ., Αφροδισιάδα

3.



I.Aphrodisias 1.183
3^{ος} αι. μ.Χ., Αφροδισιάδα


4.



I.Aphrodisias 5.102

Ελληνιστική εποχή, Αφροδισιάδα

5.



IThrAeg E489

2^{ος} – 3^{ος} αι. μ.Χ., Κομοτηνή

6.



IG II² 334

περ. 335/4 π.Χ., Αθήνα