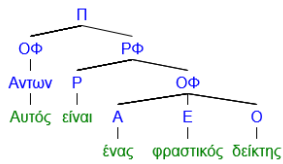


Σ. Α. Μοσχονάς, Γλώσσα και Επικοινωνία
(Ερώτημα σύνταξης)

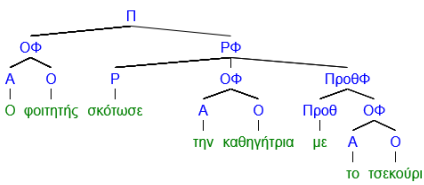
2.4.2026

Ποιος φραστικός δείκτης ΔΕΝ παράγεται από τους παρακάτω κανόνες; Εξηγήστε.
Τροποποιήστε τους κανόνες ώστε να παράγονται όλοι οι παρακάτω φραστικοί δείκτες.

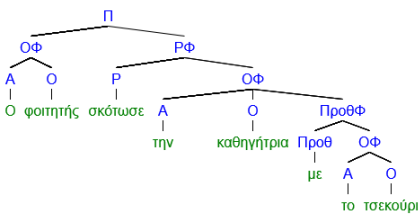
α.



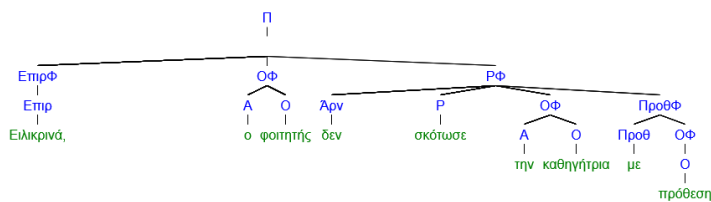
β.



γ.



δ.



$$1. \Pi \rightarrow (ΟΦ)+ΡΦ$$

$$3. ΡΦ \rightarrow P + \left\{ \begin{array}{l} ΟΦ \\ ΠροθΦ \end{array} \right\} + (ΠροθΦ)$$

$$2. ΟΦ \rightarrow \left\{ \begin{array}{l} (A)+(E)+O + \left\{ \begin{array}{l} ΟΦ \\ ΠροθΦ \end{array} \right\} \\ Αντων \end{array} \right\}$$

$$4. ΠροθΦ \rightarrow Προθ+ΟΦ.$$

Τροποποιημένος/οι κανόνες/ες: