

Τμήμα Μαθηματικών. Ακαδ. έτος 2019-20 (εαρινό εξάμηνο)
Απειροστικός Λογισμός ΙΙΙ - Φύλλο 1

1. Έστω \vec{a}, \vec{b} δύο γραμμικά ανεξάρτητα διανύσματα του \mathbb{R}^n . Ναδειχθεί ότι για κάθε $\vec{x} \in \mathbb{R}^n$ υπάρχει μοναδικό $\vec{y} \in \mathbb{R}^n$ το οποίο είναι γραμμικός συνδυασμός των \vec{a} και \vec{b} και επίσης είναι τέτοιο ώστε το $\vec{x} - \vec{y}$ είναι κάθετο στα \vec{a} και \vec{b} .
2. Για κάθε ένα από τα παρακάτω υποσύνολα του \mathbb{R}^2 να εξεταστεί αν είναι ανοικτό, αν είναι κλειστό, και να βρεθεί το σύνολο των σημείων συσσώρευσης.

$$\mathbb{Q}^2, \quad \mathbb{Z}^2, \quad \{(x, n) : x \in \mathbb{R}^2, n \in \mathbb{N}\}, \quad \{(x, \frac{1}{n}) : x \in \mathbb{R}^2, n \in \mathbb{N}\}, \\ \{(x, f(x)) : x \in \mathbb{R}\} \quad (\text{όπου } f : \mathbb{R} \rightarrow \mathbb{R} \text{ συνεχής συνάρτηση})$$

3. (κιβωτισμός) Να αποδειχθεί ότι αν (F_k) είναι μία ακολουθία μη-κενών συμπαγών υποσυνόλων του \mathbb{R}^n με $F_{k+1} \subset F_k$, τότε $\bigcap_{k=1}^{\infty} F_k \neq \emptyset$.
4. Έστω $\vec{f} : \mathbb{R}^n \rightarrow \mathbb{R}^m$. Ναδειχθεί ότι τα ακόλουθα είναι ισοδύναμα:
 - (i) Η \vec{f} είναι συνεχής συνάρτηση
 - (ii) Αν το $A \subset \mathbb{R}^m$ είναι ανοικτό τότε το $\vec{f}^{-1}(A)$ είναι ανοικτό
 - (iii) Αν το $K \subset \mathbb{R}^m$ είναι κλειστό τότε το $\vec{f}^{-1}(K)$ είναι κλειστό

5. Να εξεταστεί αν υπάρχουν τα όρια

$$\lim_{(x,y) \rightarrow (1,0)} \frac{x^4 + y^4 - 1}{x^2 + y^2 - 1}, \quad \lim_{(x,y) \rightarrow (0,0)} \frac{1 - \cos(xy)}{\sin(x^2 + y^2)}, \quad \lim_{(x,y) \rightarrow (0,0)} \frac{xy}{y - x}$$

6. Να εξεταστεί αν υπάρχουν στο $(0, 0)$ τα διαδοχικά όρια καθώς και το όριο της

$$f(x, y) = \frac{x^2 y^2}{x^2 y^2 + (x - y)^2}.$$

7. Να εξεταστεί για ποιες τιμές του $\alpha \in \mathbb{R}$ μπορεί η

$$h(x, y) = \frac{|xy|^\alpha}{x^2 + y^2}$$

να επεκταθεί σε μία συνεχή συνάρτηση ορισμένη στο \mathbb{R}^2 .

8. Δίνεται διάνυσμα $\vec{a} \in \mathbb{R}^n$ και η συνάρτηση

$$f(\vec{x}) = \frac{\vec{a} \cdot \vec{x}}{\|\vec{x}\|}, \quad \vec{x} \in \mathbb{R}^n \setminus \{\vec{0}\}.$$

Αν υπάρχει το $\lim_{\vec{x} \rightarrow \vec{0}} f(\vec{x})$, τότε τι μπορείτε να συμπεράνετε για το διάνυσμα \vec{a} ;

Τμήμα Μαθηματικών. Ακαδ. έτος 2019-20 (εαρινό εξάμηνο)
Απειροστικός Λογισμός ΙΙΙ - Φύλλο 2

1. Έστω η συνάρτηση

$$f(x, y) = \begin{cases} \left(1 - \cos\left(\frac{x^2}{y}\right)\right) \sqrt{x^2 + y^2}, & y \neq 0, \\ 0, & y = 0. \end{cases}$$

Ναδειχθεί ότι στο $(0,0)$ η f είναι συνεχής αλλά δεν είναι διαφορίσιμη. Να εξεταστεί επίσης αν υπάρχουν οι κατά κατεύθυνση παράγωγοι στο $(0,0)$. Να βρεθεί, εφόσον υπάρχει, η κατεύθυνση μέγιστου ρυθμού μεταβολής στο $(0,0)$.

2. Να βρεθεί η εξίσωση του εφαπτόμενου επιπέδου στο ελλειπτικό παραβόλοειδές $z = 3x^2 + y^2$ στο σημείο $(1, -2, 7)$. Να βρεθεί το μοναδιαίο εξωτερικό κάθετο διάνυσμα στο σημείο αυτό.
3. Ένα σύνολο $A \subset \mathbb{R}^n$ λέγεται κυρτό αν έχει την εξής ιδιότητα: αν $\vec{x}, \vec{y} \in A$ και $t \in [0, 1]$ τότε $(1-t)\vec{x} + t\vec{y} \in A$. Έστω ότι αν το $A \subset \mathbb{R}^n$ είναι κυρτό και ότι η $f : A \rightarrow \mathbb{R}$ είναι C^1 με φραγμένες μερικές παραγώγους. Έστω $M = \sup_A |\nabla f|$. Ανδειχθεί ότι για κάθε $\vec{x}, \vec{y} \in A$ ισχύει

$$|f(\vec{x}) - f(\vec{y})| \leq M \|\vec{x} - \vec{y}\|.$$

4. Έστω $f : \mathbb{R}^n \setminus \{0\} \rightarrow \mathbb{R}$ C^1 , θετικά ομογενής συνάρτηση βαθμού $\alpha > 0$, δηλαδή συνάρτηση για την οποία ισχύει

$$f(t\vec{x}) = t^\alpha f(\vec{x}), \quad t > 0, \quad \vec{x} \in \mathbb{R}^n \setminus \{0\}.$$

Ναδειχθεί ότι

$$\vec{x} \cdot \nabla f(\vec{x}) = \alpha f(\vec{x}), \quad \vec{x} \in \mathbb{R}^n \setminus \{0\}.$$

5. Υλικό σημείο κινείται υπό την επίδραση δύναμης και η θέση του τη χρονική στιγμή t είναι

$$\gamma(t) = (\cos t, \sin t, t), \quad t \in [0, \pi/2].$$

Τη χρονική στιγμή $t = \pi/2$ παύει η άσκηση δύναμης και το σώμα κινείται ελεύθερα. Να βρεθεί η θέση του τη στιγμή όπου θα φτάσει σε ύψος 5.

6. Να βρεθεί για ποιες τιμές του $\beta \in \mathbb{R}$ η συνάρτηση

$$f(x, y) = \begin{cases} \frac{xy}{(x^2 + y^2)^\beta}, & (x, y) \neq (0, 0), \\ 0, & (x, y) = (0, 0), \end{cases}$$

είναι συνεχής στο $(0,0)$ και για ποια β είναι διαφορίσιμη στο $(0,0)$.

7. Αποδείξτε ότι η συνάρτηση

$$f(x, y) = \begin{cases} (x^2 + y^2) \sin\left(\frac{1}{\sqrt{x^2 + y^2}}\right), & (x, y) \neq (0, 0), \\ 0, & (x, y) = (0, 0), \end{cases}$$

έχει μερικές παραγώγους σε κάθε σημείο. Απόδειξτε ότι οι μερικές παράγωγοι δεν είναι συνεχείς στο $(0, 0)$ αλλά η f είναι διαφορίσιμη στο $(0, 0)$.

8. Αποδείξτε ότι το 2×2 σύστημα

$$u = x^2y \quad , \quad v = x^3 - y^2$$

μπορεί να λυθεί μονοσήμαντα ως προς (x, y) για (u, v) κοντά στο $(4, 7)$ με την λύση (x, y) να βρίσκεται κοντά στο $(2, 1)$. Για τις αντίστοιχες συναρτήσεις $x(u, v)$, $y(u, v)$ να βρεθούν οι μερικές παράγωγοι $\partial x/\partial u$, $\partial x/\partial v$, $\partial y/\partial u$ και $\partial y/\partial v$ στο σημείο $(u, v) = (4, 7)$.

Τμήμα Μαθηματικών. Ακαδ. έτος 2019-20 (εαρινό εξάμηνο)
Απειροστικός Λογισμός ΙΙΙ - Φύλλο 3

1. Έστω

$$g(x) = \frac{x^3y - xy^3}{x^2 + y^2}.$$

Ναδειχθεί ότι οι μερικές παράγωγοι β' τάξης f_{xy} και f_{yx} υπάρχουν στο $(0, 0)$ αλλά $f_{xy}(0, 0) \neq f_{yx}(0, 0)$.

2. Έστω $g : \mathbb{R} \rightarrow \mathbb{R}$ μία C^2 συνάρτηση και $f : \mathbb{R}^n \rightarrow \mathbb{R}$, $f(\vec{x}) = g(\|\vec{x}\|)$. Ναδειχθεί ότι

- (i) Η κατεύθυνση μέγιστης αύξησης σε κάθε μη-κρίσιμο σημείο \vec{x} είναι παράλληλη με το \vec{x}
- (ii) $f_{x_1x_1} + f_{x_2x_2} + \dots + f_{x_nx_n} = g'' + \frac{n-1}{r}g'$, $r = \|\vec{x}\|$
- (iii) Αποδείξτε ότι αν $n \geq 3$ τότε η συνάρτηση $f(\vec{x}) = \|\vec{x}\|^{2-n}$, $\vec{x} \neq \vec{0}$, είναι λύση της εξίσωσης του Laplace: $f_{x_1x_1} + f_{x_2x_2} + \dots + f_{x_nx_n} = 0$, στο $\mathbb{R}^n \setminus \{0\}$.

3. Ναδειχθεί ότι αν η συνάρτηση f είναι C^2 στο \mathbb{R}^2 τότε

$$f_{xx} + f_{yy} = f_{rr} + \frac{1}{r}f_r + \frac{1}{r^2}f_{\theta\theta} \quad (x = r \cos \theta, \quad y = r \sin \theta)$$

4. Έστω $P(\vec{x})$, $\vec{x} \in \mathbb{R}^n$, πολυώνυμο βαθμού μικρότερου ή ίσου του m . Ναδειχθεί ότι αν

$$\lim_{\vec{x} \rightarrow \vec{0}} \frac{P(\vec{x})}{\|\vec{x}\|^m} = 0$$

τότε το P είναι το μηδενικό πολυώνυμο.

5. Αν $P(x, y, z)$ είναι πολυώνυμο δευτέρου βαθμού και

$$\lim_{(x,y,z) \rightarrow (3,2,1)} \frac{(y^2 - xz)^{yz} - P(x, y, z)}{(x-3)^2 + (y-2)^2 + (z-1)^2} = 0,$$

να βρεθεί ο συντελεστής του xy στο πολυώνυμο αυτό.

6. Δείξτε ότι υπάρχει μία C^∞ συνάρτηση $f(x)$ ορισμένη σε ένα διάστημα της μορφής $(1-\delta, 1+\delta)$ ώστε $x^{f(x)} + f(x)^x = 2$ για κάθε $x \in (1-\delta, 1+\delta)$. Επίσης να υπολογιστεί το $f'(1)$.

7. Αποδείξτε ότι υπάρχει C^∞ συνάρτηση $z = \phi(x, y)$ ορισμένη σε μία περιοχή U του σημείου $(3, -2)$ τέτοια ώστε $\phi(3, -2) = 1$ και

$$\phi(x, y)^6 + x\phi(x, y)^2 + 5y\phi(x, y) + y^2 + 2 = 0, \quad (x, y) \in U.$$

Στη συνέχεια βρείτε την κατεύθυνση μέγιστου ρυθμού μεταβολής της ϕ στο σημείο $(3, -2)$.

8. Να μελετηθούν τα κρίσιμα σημεία της συνάρτησης $h(x, y) = x^4 + 2y^2 - 12xy$.
9. Θεωρούμε το ελλειψοειδές $\frac{x^2}{a^2} + \frac{y^2}{b^2} + \frac{z^2}{c^2} = 1$, όπου $a, b, c > 0$. Βρείτε ένα σημείο του (x_0, y_0, z_0) ώστε αν φέρουμε το εφαπτόμενο επίπεδο E στο σημείο αυτό, ο όγκος που ορίζεται από το E στο πρώτο ογδοημόριο να είναι ο ελάχιστος δυνατός. [Θεωρείστε γνωστό ότι ο όγκος του τετραπλεύρου που ορίζεται από την αρχή των αξόνων και τα διανύσματα $\vec{a}, \vec{b}, \vec{c}$ είναι $\frac{1}{6}|\vec{a} \cdot (\vec{b} \times \vec{c})|$.]

Τμήμα Μαθηματικών. Ακαδ. έτος 2019-20 (εαρινό εξάμηνο)
Απειροστικός Λογισμός ΙΙΙ - Φύλλο 4

1. Να υπολογιστεί το διαδοχικό ολοκλήρωμα

$$\int_0^1 \int_{\sqrt{y}}^1 (1+x^5)^{-7} y \, dx \, dy$$

2. Να βρεθεί το κέντρο βάρους του χωρίου

$$D = \{(x, y) : a^2 \leq x^2 + y^2 \leq b^2 : y \geq \lambda|x|\} \quad (\lambda \geq 0, b > a > 0)$$

3. Να υπολογιστεί το $\lim a_N$ όπου

$$a_N = \sum_{i,j=1}^N \frac{ij}{(N^2 + i^2 + j^2)^2}$$

[Υπόδειξη. Αναγνωρίστε το a_N ως ένα άθροισμα Riemann]

4. Να υπολογιστεί ο όγκος του στερεού που περικλείεται από τους κυλίνδρους $x^2 + y^2 = a^2$ και $x^2 + z^2 = a^2$.

5. Να υπολογιστεί το ολοκλήρωμα $\iint_D \frac{(x+2y)^3}{(2x^2+5y^2+2xy)^{3/2}} dx \, dy$, όπου

$$D = \{(x, y) : 2x^2 + 5y^2 + 2xy \leq 1, 1 \leq 2x + 4y \leq 2\}$$

Υπόδειξη. Θέστε $u = x + 2y, v = x - y$.

6. Υπολογίστε το ολοκλήρωμα $\iiint_G z(x^2 + y^2)^{-1/2} dx \, dy \, dz$ όπου G το στερεό χωρίο που φράσσεται από πάνω από το επίπεδο $z = 2$ και από κάτω από το παραβολοειδές $2z = x^2 + y^2$.

7. Να βρεθεί το εμβαδόν του χωρίου που σε πολικές συντεταγμένες ορίζεται από τη σχέση $r^2 \leq a^2 \cos 2\theta$ ($a > 0$).

8. Υπολογίστε τον όγκο του στερεού που η βάση του είναι το καρδιοειδές $r \leq a(1 + \cos \theta)$, και το οποίο φράσσεται από πάνω από το παραβολοειδές $z = x^2 + y^2$.

9. Να βρεθεί για ποια $\alpha \in \mathbb{R}$ συγκλίνει το καταχρηστικό ολοκλήρωμα $\iiint_{\mathbb{R}^3} (x^2 + y^2 + z^2)^{-\alpha} dx \, dy \, dz$.

10. Να βρεθεί ο όγκος του στερεού που φράσσεται από κάτω από τον κώνο $z = \sqrt{3(x^2 + y^2)}$ και από πάνω από τη σφαίρα $x^2 + y^2 + z^2 = 4$.

Τμήμα Μαθηματικών. Ακαδ. έτος 2019-20 (εαρινό εξάμηνο)
Απειροστικός Λογισμός ΙΙΙ - Φύλλο 5

1. Να υπολογιστεί το επικαμπύλιο ολοκλήρωμα

$$\int_{\gamma} \left\{ [ye^{xy} \cos z + 2x \sin(yz) + x] dx + [xe^{xy} \cos z + zx^2 \cos(yz) - e^y] dy + [yx^2 \cos(yz) - e^{xy} \sin z + 2z] dz \right\}$$

όπου γ είναι η καμπύλη $(t^3 \cos t, t^2 \sin t, te^t)$, $0 \leq t \leq \pi$.

2. Εξετάστε αν το διανυσματικό πεδίο $\vec{F} = (2xy + z - 1, x^2 + 2yz^2, 2y^2z + x - 2z)$ είναι συντηρητικό και στη συνέχεια υπολογίστε το $\int_{\gamma} \vec{F} \cdot d\vec{r}$ όπου $\gamma(t) = (\frac{t}{4}, \frac{t}{4} \cos t, t^{8/3})$, $0 \leq t \leq 4\pi$.
3. Αποδείξτε ότι η καμπύλη Γ που είναι η τομή του ημισφαιρίου $z = \sqrt{4 - x^2 - y^2}$ και του κυλίνδρου $x^2 + y^2 = 2x$ έχει το ίδιο μήκος με την έλλειψη $2x^2 + y^2 = 2$.
4. Έστω $\vec{F} = (P, Q) : \mathbb{R}^2 \setminus \{0\} \rightarrow \mathbb{R}^2$ ένα C^1 διανυσματικό πεδίο με $P_y = Q_x$. Να δειχθεί ότι αν γ_1, γ_2 είναι απλές κλειστές τμηματικά C^1 καμπύλες θετικής φοράς και $(0, 0) \in \text{int}(\gamma_1) \cap \text{int}(\gamma_2)$, τότε $\int_{\gamma_1} \vec{F} \cdot d\vec{r} = \int_{\gamma_2} \vec{F} \cdot d\vec{r}$. [Η λύση μπορεί να βασιστεί σε μεγάλο βαθμό σε κατάλληλο σχήμα. Θεωρείστε πρώτα την περίπτωση όπου οι γ_1 και γ_2 δεν τέμνονται.]
5. Έστω a, b, A, B θετικοί αριθμοί τέτοιο ώστε $\frac{a^2}{A^2} + \frac{b^2}{B^2} \neq 1$. Να υπολογιστεί το επικαμπύλιο ολοκλήρωμα $\int_{\gamma} \left(\frac{-y}{x^2+y^2} dx + \frac{x}{x^2+y^2} dy \right)$ όπου γ η έλλειψη με εξίσωση $\frac{(x-a)^2}{A^2} + \frac{(y-b)^2}{B^2} = 1$.
6. Επαληθεύστε το θεώρημα απόκλισης του Gauss για το διανυσματικό πεδίο $\vec{F}(x, y, z) = (0, 0, z^3)$ στη σφαίρα $S(R)$.
7. Αποδείξτε ότι ο τύπος του Stokes συνεπάγεται τον τύπο του Green.
8. Έστω το διανυσματικό πεδίο $\vec{F}(\vec{r}) = \|\vec{r}\|^{-3} \vec{r}$ και $\alpha > 0$. Να υπολογιστεί το επιφανειακό ολοκλήρωμα $\iint_{\partial K_{\alpha}} \vec{F} \cdot \vec{\nu} dS$ όπου K_{α} είναι το μέρος της μπάλας $x^2 + y^2 + z^2 \leq 4\alpha^2$ όπου $z \geq -\alpha$ και $\vec{\nu}$ είναι το εξωτερικό μοναδιαίο κάθετο διάνυσμα στο ∂K_{α} .
9. Εφαρμόστε το θεώρημα του Stokes προκειμένου να υπολογίσετε το επικαμπύλιο ολοκλήρωμα $\int_{\gamma} \vec{F} \cdot d\vec{r}$ όπου $\vec{F} = (-y^3, x^3, z^3)$ και γ η τομή του επιπέδου $x + y + z = 1$ με τον κύλινδρο $x^2 + y^2 = 1$, όπου η φορά λαμβάνεται έτσι ώστε να προκύπτει θετική φορά αν προβάλλουμε στο επίπεδο $z = 0$.

~~1/10~~ ίσι

Λύσεις φύλλου 2

$$|f(x,y) - f(0,0)| = |f(x,y)|$$

$$\leq 2\sqrt{x^2+y^2} \xrightarrow{(x,y) \rightarrow (0,0)} 0$$

Άρα η f είναι συνεχής στο $(0,0)$.

Για τις κατευθύνσεις $\vec{u} = \pm \vec{e}_1 = (\pm 1, 0)$ έχουμε

$$\frac{f(t\vec{u}) - f(0,0)}{t} = \frac{f(\pm t, 0) - 0}{t} = 0,$$

Άρα $D_{\vec{u}} f(0,0) = 0$.

Για οποιαδήποτε άλλη κατεύθυνση

$\vec{u} = (\cos\theta, \sin\theta)$ έχουμε

$$\frac{f(t\vec{u}) - f(0,0)}{t} = \frac{(1 - \cos(\frac{t\cos^2\theta}{\sin\theta})) |t|}{t}$$

$$= \frac{1 - \cos(\frac{t\cos^2\theta}{\sin\theta})}{t^2} \cdot t|t| \xrightarrow{t \rightarrow 0} 0$$

Άρα $D_{\vec{u}} f(0,0) = 0$.

Η f είναι διαφορετική στο $(0,0)$
αυ και μόνο αν

$$\lim_{(x,y) \rightarrow (0,0)} \frac{f(x,y) - f(0,0) - \nabla f(0,0) \cdot (x,y)}{\sqrt{x^2+y^2}} = 0$$

ισοδυνατά αν

$$\lim_{(x,y) \rightarrow (0,0)} \left(1 - \cos\left(\frac{x^2}{y}\right) \right) = 0$$

Όπως κατά μήκος της παραβολής

$2y = x^2$ το όριο είναι $1 - \cos 2$.

Άρα η f δεν είναι διαφορετική
στο $(0,0)$.

2/ Το παραβολοειδές είναι το
γραμμά της συνάρτησης

$$f(x,y) = 3x^2 + y^2$$

Σίτωνα με τη θεωρία η επί-
σταση του εφελκτικού του επιπέδου
είναι

$$z = 7 + \frac{\partial f}{\partial x} \Big|_{(1,-2)} (x-1) + \frac{\partial f}{\partial y} \Big|_{(1,-2)} (y+2)$$

Έχουμε

$$\frac{\partial f}{\partial x} = 6x \implies \frac{\partial f}{\partial x} \Big|_{(1,-2)} = 6$$

$$\frac{\partial f}{\partial y} = 2y \implies \frac{\partial f}{\partial y} \Big|_{(1,-2)} = -4$$

Άρα η επίσταση είναι

$$z = 7 + 6(x-1) - 4(y+2)$$

δηλ.

$$z = 6x - 4y - 7$$

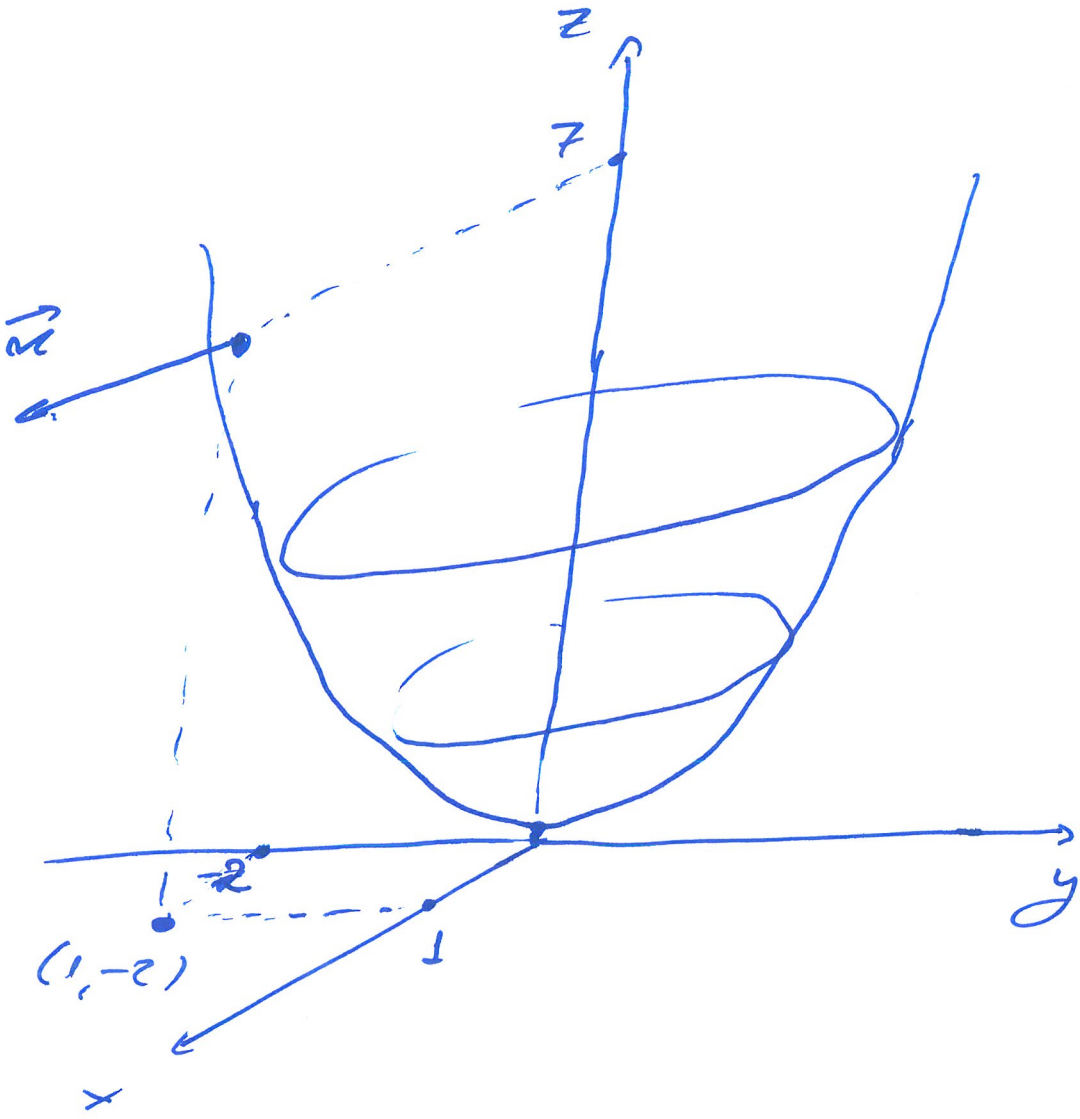
δηλ.

$$6x - 4y - z = 7$$


Το μοναδιαίο εσωτερικό κείμενο

$$\text{είναι το } \vec{n} = \frac{(6, -4, -1)}{\|(6, -4, -1)\|}$$

$$= \frac{1}{\sqrt{53}} (6, -4, -1)$$



3/



Παραμετροποιούμε το ευθύγραμμο τμήμα διτόντας

$$\vec{f}(t) = (1-t)\vec{x} + t\vec{y}, \quad t \in [0,1].$$

Ορίζουμε $g(t) = f(\vec{f}(t))$.

Η $g(t)$ είναι C^1 οπότε από το Θεώρημα Μέσης Τιμής έχουμε ότι υπάρχει $\xi \in (0,1)$ ώστε

$$g(1) - g(0) = g'(\xi)(1-0) = g'(\xi)$$

Άρα, χρησιμοποιώντας και τον κανόνα της αλυσίδας

$$|f(\vec{y}) - f(\vec{x})| = |g(1) - g(0)|$$

$$= |g'(\xi)|$$

$$= |Df(\vec{f}(\xi)) \cdot \vec{f}'(\xi)|$$

$$= |Df(\vec{f}(\xi)) \cdot (\vec{y} - \vec{x})|$$

$$\leq \|Df(\vec{f}(\xi))\| \cdot \|\vec{y} - \vec{x}\|$$

$$\leq M \|\vec{y} - \vec{x}\|$$

4/ Έστω $\vec{x} \in \mathbb{R}^n \setminus \{0\}$. Παραγωγίζουμε
τη σχέση

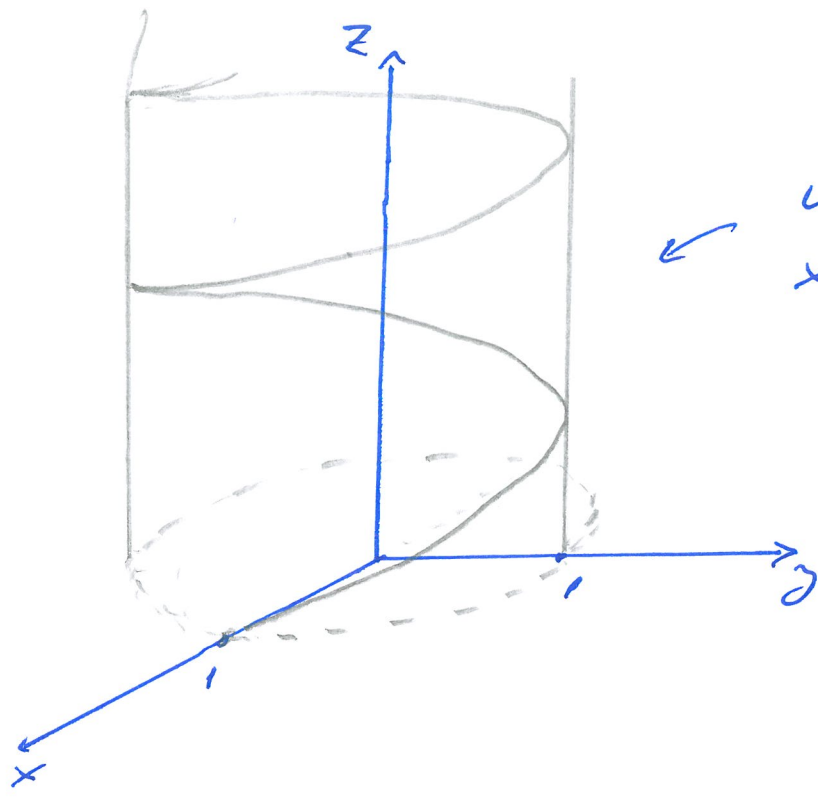
$$f(t\vec{x}) = t^\alpha f(\vec{x}), \quad t > 0$$

ως προς t . Εγκριζόμενες τον κλι-
νόντα της αλυσίδας παίρνουμε

$$\nabla f(t\vec{x}) \cdot \vec{x} = \alpha t^{\alpha-1} f(\vec{x}), \quad t > 0$$

Επιλέγοντας $t=1$ προκύπτει το
Σητούφεινο.

5/



κύλινδρος
 $x^2 + y^2 = 1$

Η ταχύτητα τη χρονική στιγμή
 $t \leq \frac{\pi}{2}$ είναι $\vec{f}'(t) = (-\sin t, \cos t, 1)$
 Τη στιγμή $t = \frac{\pi}{2}$ ξεκινά ευθύγραμμη
 ομαλή κίνηση από τη θέση

$\vec{f}(\frac{\pi}{2}) = (0, 1, \frac{\pi}{2})$ με ταχύτητα

$\vec{f}'(\frac{\pi}{2}) = (-1, 0, 1)$.

Άρα η θέση τη στιγμή $t \geq \frac{\pi}{2}$
 είναι

$$\vec{q}(t) = (0, 1, \frac{\pi}{2}) + (t - \frac{\pi}{2})(-1, 0, 1)$$

$$= (\frac{\pi}{2} - t, 1, t)$$

Φτάνει σε ύψος $z=5$ τη στιγμή $t=5$,
 οπότε η θέση του είναι $(\frac{\pi}{2} - 5, 1, 5)$.

6/ Κατά μήκος της ευθείας $y=2x$ έχουμε

$$f(x, 2x) = \frac{2x^2}{(x^2 + 2^2 x^2)^b} = \frac{2}{(1+2^2)^b} |x|^{2-2b}$$

Αν $2-2b < 0$ αυτό τείνει στο άπειρο, ενώ αν $2-2b=0$ το όριο εξαρτάται από το 2 .

Στην περίπτωση $2-2b > 0$, δηλ. $b < 1$, έχουμε $f(x, 2x) \xrightarrow{x \rightarrow 0} 0$, άρα πιθανό όριο είναι το 0 . Πράγματι

$$\frac{|xy|}{(x^2+y^2)^b} \leq \frac{1}{2} (x^2+y^2)^{1-b} \xrightarrow{|xy| \rightarrow (0,0)} 0 = f(0,0)$$

Άρα f συνεχής στο $(0,0)$ αν $b < 1$.

Έχουμε

$$\frac{f(x,0) - f(0,0)}{x} = 0$$

άρα $\frac{\partial f}{\partial x}(0,0) = 0$, και άρα $\frac{\partial f}{\partial y}(0,0) = 0$.

Άρα, σύμφωνα με τα θεωρήματα, η
f είναι διαφορίσιμη στο (0,0) αν

$$\lim_{(x,y) \rightarrow (0,0)} \frac{f(x,y) - f(0,0) - \nabla f(0,0) \cdot (x,y)}{\sqrt{x^2+y^2}} = 0$$

δηλ. αν

$$\lim_{(x,y) \rightarrow (0,0)} \frac{xy}{(x^2+y^2)^{\theta+\frac{1}{2}}} = 0$$

Συνεπώς, από τα προηγούμενα,

$$\text{αν } \theta + \frac{1}{2} < 1$$

δηλ.

$$\text{αν } \theta < \frac{1}{2}$$

7/ Για $(x,y) \neq (0,0)$ έχουμε

$$\frac{\partial f}{\partial x} = 2x \sin\left(\frac{1}{\sqrt{x^2+y^2}}\right) - \frac{x}{\sqrt{x^2+y^2}} \cos\left(\frac{1}{\sqrt{x^2+y^2}}\right)$$

Επίσης

$$\frac{f(x,0) - f(0,0)}{x} = x \sin \frac{1}{|x|} \xrightarrow{x \rightarrow 0} 0$$

$$\text{άρα } \frac{\partial f}{\partial x}(0,0) = 0.$$

Όμοια βρίσκουμε ότι $\frac{\partial f}{\partial y}(0,0) = 0$.
Οι γερικές παράγωγοι δεν είναι συνε-
χείς στο $(0,0)$: κατά μήκος της
ευθείας $y=0$ έχουμε

$$\frac{\partial f}{\partial x}(x,0) = 2x \sin \frac{1}{|x|} - \frac{x}{|x|} \cos \frac{1}{|x|}$$

θεωρώντας π.χ. την $x_n = \frac{1}{2\pi n}$ βλέπουμε
ότι η $\frac{\partial f}{\partial x}(x,0)$ δεν τείνει στο $0 = \frac{\partial f}{\partial x}(0,0)$
καθώς $x \rightarrow 0$. Άρα η $\frac{\partial f}{\partial x}$ είναι
δυσχεύς στο $(0,0)$. Το ίδιο ισχύει
και για την $\frac{\partial f}{\partial y}$.

Ποτόσο u f είναι διαφορίστη
στο $(0,0)$. Έχουμε

$$\frac{f(x,y) - f(0,0) - \nabla f(0,0) \cdot (x,y)}{\sqrt{x^2+y^2}}$$

$$= \frac{f(x,y)}{\sqrt{x^2+y^2}}$$

$$= \sqrt{x^2+y^2} \sin \frac{1}{\sqrt{x^2+y^2}}$$

$\rightarrow 0$, καθώς $(x,y) \rightarrow (0,0)$

άρα πράγματι u f είναι διαφο-
ρίστη στο $(0,0)$.

8/ Θετούμε $\vec{f}(x,y) = (u,v) = (xy, x^3 - y^2)$

Έχουμε τότε $f(2,1) = (4,7)$.

Ο Ιακωβιανός πίνακας είναι

$$J\vec{f} = \begin{bmatrix} \frac{\partial u}{\partial x} & \frac{\partial u}{\partial y} \\ \frac{\partial v}{\partial x} & \frac{\partial v}{\partial y} \end{bmatrix} = \begin{bmatrix} 2xy & x^2 \\ 3x^2 & -2y \end{bmatrix}$$

και άρα $\det J\vec{f}(2,1) = -56 \neq 0$.

Από το Θεώρημα Αντιστροφής Συ-
νάρτησης έπεται ότι υπάρχει τοπική
αντίστροφη της \vec{f} από τις περιοχές
του $(4,7)$ σε τις περιοχές του $(2,1)$.

Επιπλέον

$$(D\vec{f}^{-1})(4,7) = [D\vec{f}(2,1)]^{-1}$$

δηλ.

$$\begin{bmatrix} \frac{\partial x}{\partial u} & \frac{\partial x}{\partial v} \\ \frac{\partial y}{\partial u} & \frac{\partial y}{\partial v} \end{bmatrix}_{(4,7)} = \begin{bmatrix} 4 & 4 \\ 12 & -2 \end{bmatrix}^{-1}$$

$$= \frac{1}{-56} \begin{bmatrix} -2 & -4 \\ -12 & 4 \end{bmatrix}$$

και άρα

$$\frac{\partial x}{\partial u}(4,7) = \frac{1}{28}, \quad \frac{\partial x}{\partial v}(4,7) = \frac{1}{14}, \quad \frac{\partial y}{\partial u}(4,7) = \frac{3}{14}$$

$$\frac{\partial y}{\partial v}(4,7) = -\frac{1}{14}$$

Λύσεις τρίτου γύρου ασκήσεων

I Υπολογισμοί

$$f_x = \frac{x^4 y + 4x^2 y^3 - y^5}{(x^2 + y^2)^2}, \text{ στο } \mathbb{R}^2 \setminus \{(0,0)\}$$

$$f_y = \frac{-xy^4 - 4x^3 y^2 + x^5}{(x^2 + y^2)^2}, \text{ στο } \mathbb{R}^2 \setminus \{(0,0)\}$$

και όπως είναι $f_x(0,0) = f_y(0,0) = 0$.

Από για $y \neq 0$

$$\frac{f_x(0,y) - f_x(0,0)}{y} = \frac{-\frac{y^5}{y^4} - 0}{y} = -1$$

ομοίως $f_{xy}(0,0) = -1$.

Επίσης για $x \neq 0$

$$\frac{f_y(x,0) - f_y(0,0)}{x} = \frac{\frac{x^5}{x^4} - 0}{x} = 1$$

και άρα $f_{yx}(0,0) = 1$.

2. Έχουμε $f(\vec{x}) = g(r)$, $r = \|\vec{x}\|$.

(i) Από τον κανόνα της αλυσίδας έχουμε

$$\begin{aligned}\frac{\partial f}{\partial x_k}(\vec{x}) &= g'(r) \frac{\partial r}{\partial x_k} = g'(r) \frac{\partial}{\partial x_k} (x_1^2 + \dots + x_n^2)^{\frac{1}{2}} \\ &= \frac{x_k}{r} g'(r)\end{aligned}$$

Από

$$\nabla f(\vec{x}) = \frac{g'(r)}{r} \vec{x} \quad (r = \|\vec{x}\|)$$

το οποίο είναι παράλληλο με το \vec{x} .

(ii) Έχουμε

$$\begin{aligned}f_{x_k x_k}(\vec{x}) &= \left(\frac{x_k}{r} g'(r) \right)_{x_k} \\ &= \frac{g'(r)}{r} + x_k \frac{d}{dr} \left(\frac{g'(r)}{r} \right) \frac{\partial r}{\partial x_k} \\ &= \frac{g'(r)}{r} + x_k \left(\frac{g''(r)}{r} - \frac{g'(r)}{r^2} \right) \frac{x_k}{r} \\ &= \frac{g''(r) x_k^2}{r^2} + \frac{g'(r)}{r} \left(\frac{1}{r^2} - \frac{x_k^2}{r^2} \right)\end{aligned}$$

και λοιπόν

$$\begin{aligned}\sum_{k=1}^m f_{x_k x_k}(\vec{x}) &= \frac{g''(r)}{r^2} \left(\sum_{k=1}^m x_k^2 \right) \\ &\quad + \frac{g'(r)}{r} \left(\frac{m}{r^2} - \frac{1}{r^2} \sum_{k=1}^m x_k^2 \right) \\ &= g''(r) + \frac{m-1}{r} g'(r)\end{aligned}$$

(iii) $\sum \text{Laplace } f(r)$ to (ii) exercise

3

$$f_{x_1 x_1} + \dots + f_{x_n x_n} = \frac{d^2}{dr^2} r^{2-n} + \frac{n-1}{r} \frac{d}{dr} r^{2-n}$$

$$= (2-n)(1-n) r^{-n} + \frac{n-1}{r} (2-n) r^{1-n} = 0$$

3. Exercise

$$f_r = f_x x_r + f_y y_r$$

$$= \cos \theta f_x + \sin \theta f_y$$

$$\begin{pmatrix} x = r \cos \theta \\ y = r \sin \theta \end{pmatrix}$$

and

$$f_{rr} = \cos \theta (\cos \theta f_{xx} + \sin \theta f_{xy})$$

$$+ \sin \theta (\cos \theta f_{yx} + \sin \theta f_{yy})$$

$$= \cos^2 \theta f_{xx} + 2 \cos \theta \sin \theta f_{xy} + \sin^2 \theta f_{yy}$$

Erions

$$f_\theta = f_x x_\theta + f_y y_\theta$$

$$= -r \sin \theta f_x + r \cos \theta f_y$$

and

$$f_{\theta\theta} = -r \cos \theta f_x - r \sin \theta (-r \sin \theta f_{xx} + r \cos \theta f_{xy})$$

$$- r \sin \theta f_y + r \cos \theta (-r \sin \theta f_{yx} + r \cos \theta f_{yy})$$

$$= r^2 \sin^2 \theta f_{xx} - 2r^2 \cos \theta \sin \theta f_{xy}$$

$$+ r^2 \cos^2 \theta f_{yy} - r \cos \theta f_x - r \sin \theta f_y$$

Αρα

4

$$\Delta_{rr} + \frac{1}{r} \Delta_r + \frac{1}{r^2} \Delta_{\theta\theta} =$$

$$= \cos^2 \theta \Delta_{xx} + 2 \cos \theta \sin \theta \Delta_{xy} + \sin^2 \theta \Delta_{yy}$$

$$+ \frac{1}{r} (\cos \theta \Delta_x + \sin \theta \Delta_y)$$

$$+ \frac{1}{r^2} \left[r^2 \sin^2 \theta \Delta_{xx} - 2r^2 \cos \theta \sin \theta \Delta_{xy} \right.$$

$$\left. + r^2 \cos^2 \theta \Delta_{yy} - r \cos \theta \Delta_x - r \sin \theta \Delta_y \right]$$

$$= \Delta_{xx} + \Delta_{yy}$$

4. Χρησιμοποιούμε επαγωγή στη
διάσταση n .

Για $n=1$ πρέπει να δείξουμε ότι αν

$$\lim_{x \rightarrow 0} \frac{a_0 + a_1 x + \dots + a_n x^n}{x^n} = 0$$

τότε $a_0 = a_1 = \dots = a_n = 0$, το οποίο είναι
πολύ απλό.

Υποθέτουμε ότι το Σ του $n-1$ ισχύει
για διάσταση $n-1$ (HMEV) και θα το απο-
δείξουμε για διάσταση n .

5. Σύμφωνα με τις θεωρίες, το $P(x,y,z)$ είναι το πολυώνυμο Taylor 2^ο βαθμού της $f(x,y,z) = (y^2 - xz)^{yz}$ στο σημείο $(3, 2, 1)$. Άρα ο συντελεστής του xy είναι $\frac{2!}{2!} f_{xy}(3, 2, 1) = f_{xy}(3, 2, 1)$. Υπολογίστε:

$$f_x = yz(y^2 - xz)^{yz-1} \cdot (-z)$$

$$= -yz^2(y^2 - xz)^{yz-1}$$

$$f_{xy} = -z^2(y^2 - xz)^{yz-1}$$

$$- yz^2(yz-1)(y^2 - xz)^{yz-2} \cdot 2y$$

$$- yz^2(y^2 - xz)^{yz-1} \ln(y^2 - xz) \cdot z$$

$$= -z^2(y^2 - xz)^{yz-1}$$

$$- 2y^2z^2(yz-1)(y^2 - xz)^{yz-2}$$

$$- yz^3(y^2 - xz)^{yz-1} \ln(y^2 - xz)$$

Άρα ο συντελεστής είναι

$$f_{xy}(3, 2, 1) = -9$$

6. Έστω η συνάρτηση $F(x,y) = x^y + y^x$:

Η $F(x,y)$ είναι C^1 στο $(0,\infty) \times (0,\infty)$
και ισχύει $F(1,1) = 2$. Συναρτήσεις u
συνάρτησης της \mathcal{D} ενοείται από το Θ .

Προσδιορίστε Συναρτήσεις u δείχνοντας
ότι $\frac{\partial F}{\partial y}(1,1) \neq 0$.

Έχουμε

$$\frac{\partial F}{\partial y}(x,y) = x^y \ln x + x y^{x-1}$$

οπότε

$$\frac{\partial F}{\partial y}(1,1) = 1.$$

Άρα υπάρχει η τοπ. Εξισότιση

$$f'(1) = - \frac{F_x(1,1)}{F_y(1,1)} = -1.$$

7. Θεωρούμε τη συνάρτηση

$$F(x, y, z) = z^6 + xz^2 + 5yz + y^2 + 2$$

Προσπαθούμε ότι $F(3, -2, 1) = 0$. Επίσης

$$F_z(3, -2, 1) = 6z^5 + 2xz + 5y \Big|_{(3, -2, 1)} = 2 \neq 0$$

Συνεπώς η ύπαρξη της $\varphi(x, y)$ εφείκει από το Θεώρημα Διαφορετικής Συνάρτησης.

Επιπλέον έχουμε

$$\varphi_x(3, -2) = - \frac{F_x(3, -2, 1)}{F_z(3, -2, 1)} = -1$$

$$\varphi_y(3, -2) = - \frac{F_y(3, -2, 1)}{F_z(3, -2, 1)} = -\frac{5}{2}$$

Οπότε $\nabla \varphi(3, -2) = (-1, -\frac{5}{2})$. Συνεπώς η κατεύθυνση μέγιστου ρυθμού μεταβολής της $\varphi(x, y)$ στο σημείο $(3, -2)$ είναι η

$$\vec{u} = \frac{\nabla \varphi(3, -2)}{\|\nabla \varphi(3, -2)\|} = \frac{1}{\sqrt{29}} (-2, -5)$$

8. Έχουμε $\nabla h = (4x^3 - 12y, 4y - 12x)$

Λύνουμε το σύστημα

$$\begin{cases} 4x^3 - 12y = 0 \\ 4y - 12x = 0 \end{cases}$$

Βρίσκουμε τρία κριστά σημεία,

τα $(0,0), \pm(3,9)$.

Ο Εσσιανός πίνακας είναι

$$Hh = \begin{bmatrix} h_{xx} & h_{xy} \\ h_{xy} & h_{yy} \end{bmatrix} = \begin{bmatrix} 12x^2 & -12 \\ -12 & 4 \end{bmatrix}$$

Κοιτάμε ξεχωριστά το κάθε κριστό σημείο

- $(0,0)$

Έχουμε

$$ac - b^2 = -144 < 0$$

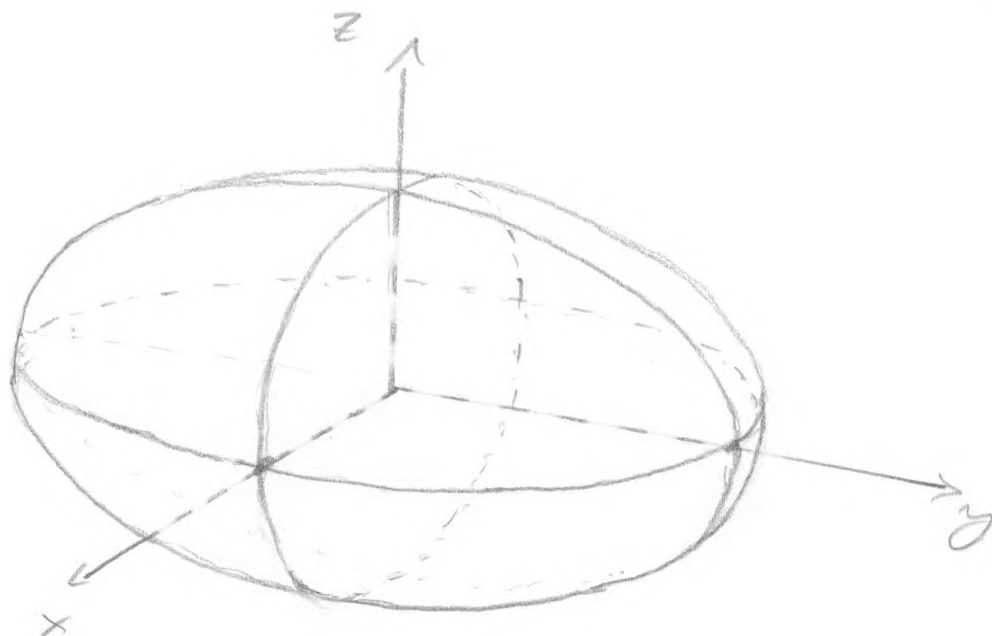
και είναι σημείο καμπύλης.

- $(3,9)$

$$\text{Έχουμε } ac - b^2 = 12 \cdot 9 \cdot 4 - 12^2 = 288 > 0,$$

$a = 12 \cdot 9 > 0$, και γνήσιο τοπικό ελάχιστο

- $(-3,-9)$ Ομοίως, γνήσιο τοπικό ελάχιστο.



19

Έστω (x_0, y_0, z_0) το τυχαίο σημείο επιφάνειας.
 Γνωρίζουμε ότι το εφαπτόμενο επίπεδο
 στο (x_0, y_0, z_0) έχει εξίσωση

$$\frac{x_0 x}{a^2} + \frac{y_0 y}{b^2} + \frac{z_0 z}{c^2} = 1$$

και συνεπώς τέμνει τους τρεις άξονες
 στα σημεία $(\frac{a^2}{x_0}, 0, 0)$, $(0, \frac{b^2}{y_0}, 0)$ και
 $(0, 0, \frac{c^2}{z_0})$.

Επειδή ότι ο όγκος του αντίστοιχου
 τριγώνου είναι

$$V = \frac{1}{6} \cdot \frac{a^2 b^2 c^2}{x_0 y_0 z_0}$$

Συνεπώς το πρόβλημα ανάγεται

στο :

$$\left[\begin{array}{l} \text{να μεγιστοποιηθεί η συνάρτηση} \\ f(x,y,z) = xyz \text{ υπό τον περιο-} \\ \text{ρισμό: } \underbrace{\frac{x^2}{a^2} + \frac{y^2}{b^2} + \frac{z^2}{c^2} = 1}_{g(x,y,z)} \end{array} \right.$$

Εφαρμόζουμε τη μέθοδο των πολλαπλασιαστικών Lagrange: θεωρούμε το σύστημα.

$$\begin{cases} \nabla f(x,y,z) = \lambda \nabla g(x,y,z) \\ g(x,y,z) = 1 \end{cases}$$

Ανάλυνται το:

$$\left\{ \begin{array}{l} yz = \lambda \frac{2x}{a^2} \\ xz = \lambda \frac{2y}{b^2} \\ xy = \lambda \frac{2z}{c^2} \\ \frac{x^2}{a^2} + \frac{y^2}{b^2} + \frac{z^2}{c^2} = 1 \end{array} \right.$$

Διαιρούμε κατά μέλη τις δύο πρώτες σχέσεις παίρνουμε

$$\frac{y^2}{x^2} = \frac{b^2}{a^2}$$

και επειδη θεωρούμε $x, y, z > 0$, 11

$$\frac{y}{b} = \frac{x}{a}$$

Χρησιμοποιώντας και την τρίτη σχέση παίρνουμε

$$\frac{x}{a} = \frac{y}{b} = \frac{z}{c}$$

Όπως

$$\left(\frac{x}{a}\right)^2 + \left(\frac{y}{b}\right)^2 + \left(\frac{z}{c}\right)^2 = 1,$$

άρα

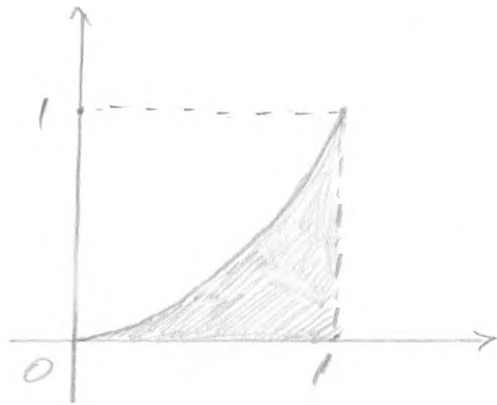
$$\frac{x}{a} = \frac{y}{b} = \frac{z}{c} = \frac{1}{\sqrt{3}}.$$

Άρα το Σημείο στο οποίο είναι το $\left(\frac{a}{\sqrt{3}}, \frac{b}{\sqrt{3}}, \frac{c}{\sqrt{3}}\right)$.

Λύσεις Τέταρτου βιβλίου ασκήσεων

1. Όπως δίνεται το ολοκλήρωμα είναι δύσκολο να υπολογιστεί. Το υπολογίζουμε ως διαδοχικό ολοκλήρωμα στο χώρο

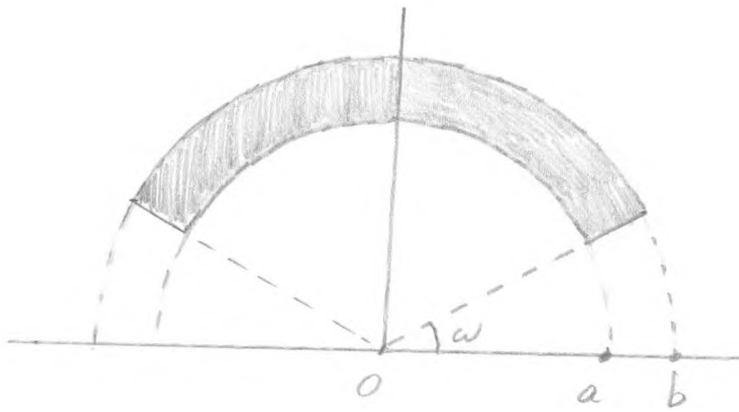
$$D = \{(x, y) : 0 \leq y \leq 1, \sqrt{y} \leq x \leq 1\}$$
$$= \{(x, y) : 0 \leq x \leq 1, 0 \leq y \leq x^2\}$$



Άρα

$$I = \int_0^1 \int_0^{x^2} (1+x^5)^{-7} y \, dy \, dx$$
$$= \int_0^1 (1+x^5)^{-7} \left[\frac{y^2}{2} \right]_0^{x^2} x^2 = \frac{1}{4} \int_0^1 (1+x^5)^{-7} x^4 \, dx$$
$$= -\frac{1}{4 \cdot 5 \cdot 6} \left[(1+x^5)^{-6} \right]_0^1$$
$$= \frac{21}{2560}$$

2.



Έστω $\omega = \arctan \frac{b}{a}$. Σε πολικές συντεταγμένες το D εκφράζεται ως

$$D = \{(r, \theta) : a \leq r \leq b, \omega \leq \theta \leq \pi - \omega\}$$

Θεωρώντας πυκνότητα $\rho = \rho$ η μ κέντρο του D είναι

$$m = \mu(D) = \int_a^b \int_{\omega}^{\pi - \omega} r \, d\theta \, dr.$$

$$= \left(\frac{\pi}{2} - \omega\right)(b^2 - a^2).$$

Το κέντρο μ κέντρο βρίσκεται στον κατ'επίπεδο άξονα και έχει τεταγμένη

$$y_0 = \frac{1}{m} \iint_D y \, dx \, dy$$

$$= \frac{1}{m} \int_a^b \int_{\omega}^{\pi - \omega} r \sin \theta \cdot r \, d\theta \, dr$$

$$= \frac{1}{m} \left(\int_a^b r^2 dr \right) \left(\int_w^{\pi-w} \sin \theta d\theta \right)$$

$$= \frac{1}{(\frac{\pi}{2}-w)(b^2-a^2)} \cdot \frac{b^3-a^3}{3} \cdot 2 \cos w$$

$$= \frac{2}{3} \cdot \frac{\cos w}{\frac{\pi}{2}-w} \cdot \frac{a^2+ab+b^2}{a+b}$$

3. Βάσει της υπόδειξης, βλέπουμε στο γενικό όρο του αθροίσματος να εμφανίζεται το $\frac{1}{N^2}$. Επίσης, λόγω συμμετρίας, είναι λογικό το σχετικό χωρίο ομοιόμορφως να είναι τετράγωνο, και χωρίς περιορισμό της γενικότητας το $[0,1] \times [0,1]$. Φαίνεται επίσης λογικό τα σημεία υπολογισμού της συνάρτησης να είναι τα $(\frac{i}{N}, \frac{j}{N})$, $i, j=1, \dots, N$.

Γράφουμε

$$a_N = \sum_{i,j=1}^N \frac{ij}{(N^2+i^2+j^2)^2} = \sum_{i,j=1}^N \frac{\frac{i}{N} \cdot \frac{j}{N}}{\left(1 + \left(\frac{i}{N}\right)^2 + \left(\frac{j}{N}\right)^2\right)^2} \frac{1}{N^2}$$

Παρατηρούμε ότι το άθροισμα αυτό είναι άθροισμα Riemann για το ολοκλήρωμα

$$\iint_{[0,1] \times [0,1]} \frac{xy}{(1+x^2+y^2)^2} dx dy$$

για τη διαίρεση του $[0,1] \times [0,1]$ σε N^2 ίσα τετράγωνα πλευράς $\frac{1}{N}$. Το (i,j) -τετράγωνο είναι το $[\frac{i-1}{N}, \frac{i}{N}] \times [\frac{j-1}{N}, \frac{j}{N}]$ και το αντίστοιχο σημείο επιλογής είναι το $(\frac{i}{N}, \frac{j}{N})$.

Έπεται ότι

$$\lim a_N = \iint_{[0,1] \times [0,1]} \frac{xy}{(1+x^2+y^2)^2} dx dy$$

Υπολογίζουμε το ολοκλήρωμα χρησιμοποιώντας το ως διαδοχικό ολοκλήρωμα:

$$\begin{aligned} I &= \int_0^1 \int_0^1 \frac{xy}{(1+x^2+y^2)^2} dy dx \\ &= \int_0^1 \left[-\frac{x}{2(1+x^2+y^2)} \right]_0^1 dx \end{aligned}$$

$$= \frac{1}{2} \int_0^1 \left(\frac{x}{1+x^2} - \frac{x}{2+x^2} \right) dx = \frac{1}{4} \ln \frac{4}{3}$$

4. Exercise

$$D = \{ (x, y, z) : x^2 + y^2 \leq a^2, x^2 + z^2 \leq a^2 \}$$

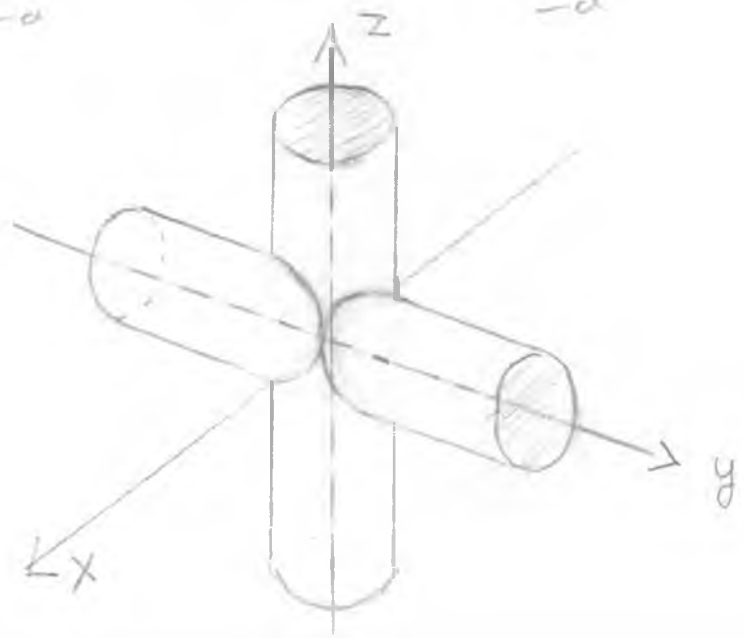
$$= \{ (x, y, z) : -a \leq x \leq a, -\sqrt{a^2 - x^2} \leq y \leq \sqrt{a^2 - x^2}, -\sqrt{a^2 - x^2} \leq z \leq \sqrt{a^2 - x^2} \}$$

Area

$$\text{Volume}(D) = \iiint_D dV =$$

$$= \int_{-a}^a \int_{-\sqrt{a^2-x^2}}^{\sqrt{a^2-x^2}} \int_{-\sqrt{a^2-x^2}}^{\sqrt{a^2-x^2}} dz dy dx$$

$$= \int_{-a}^a (2\sqrt{a^2-x^2})^2 dx = 4 \int_{-a}^a (a^2-x^2) dx = \frac{16a^3}{3}$$



5. Εκφράζουμε την ολοκλήρωσή σου ως προς u, v . Έχουμε

$$x = \frac{u+2v}{3}, \quad y = \frac{u-v}{3}$$

οπότε

$$2x^2 + 5y^2 + 2xy =$$

$$= 2 \left(\frac{u+2v}{3} \right)^2 + 5 \left(\frac{u-v}{3} \right)^2 + 2 \frac{u+2v}{3} \cdot \frac{u-v}{3}$$

$$= u^2 + v^2$$

Οπότε $T(u, v) = (x, y) = \left(\frac{u+2v}{3}, \frac{u-v}{3} \right)$.

Τότε λοιπόν $D = T(D^*)$ όπου

$$D^* = \left\{ (u, v) : u^2 + v^2 \leq 1, \frac{1}{2} \leq u \leq 1 \right\}$$

Επίσης

$$\left| \frac{\partial(x, y)}{\partial(u, v)} \right| = \left| \begin{vmatrix} x_u & x_v \\ y_u & y_v \end{vmatrix} \right| = \left| \begin{vmatrix} \frac{1}{3} & \frac{2}{3} \\ \frac{1}{3} & -\frac{1}{3} \end{vmatrix} \right| = \frac{1}{3}$$

Άρα

$$\iint_D f(x, y) \, dx \, dy = \iint_{D^*} f(T(u, v)) \left| \frac{\partial(x, y)}{\partial(u, v)} \right| \, du \, dv$$

$$= \iint_{D^*} \frac{u^3}{(u^2 + v^2)^{3/2}} \, du \, dv$$

Για τον υπολογισμό αυτού του ολοκλήρωματος χρησιμοποιούμε πολικές συντεταγμένες (στο (u, v) -επίπεδο)

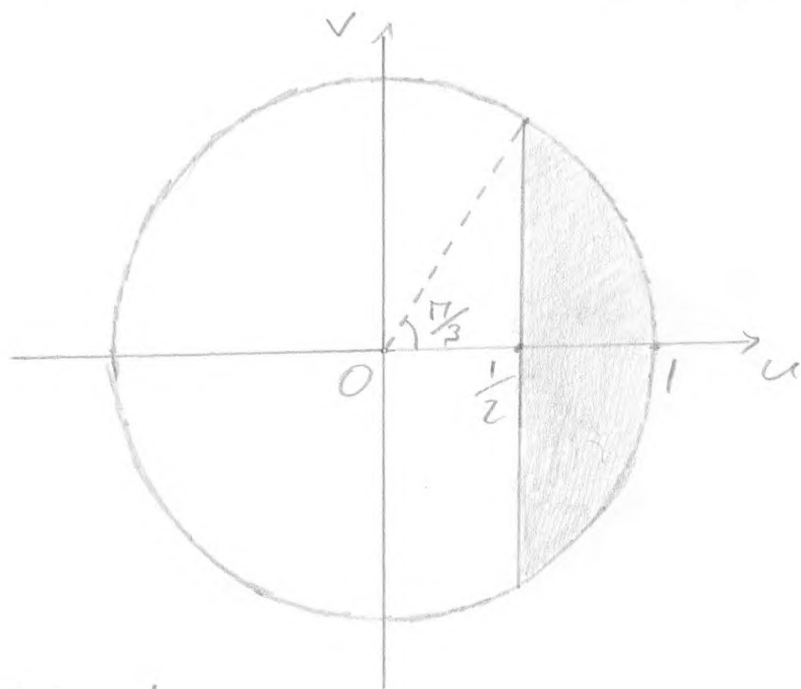
$$u = r \cos \theta.$$

$$v = r \sin \theta$$

Σε πολικές συντεταγμένες έχουμε

$$D^* = \{ (r, \theta) : 0 \leq \theta \leq \pi, \frac{1}{2} \leq r \cos \theta \leq 1 \}$$

$$= \{ (r, \theta) : -\frac{\pi}{3} \leq \theta \leq \frac{\pi}{3}, \frac{1}{2 \cos \theta} \leq r \leq 1 \}$$



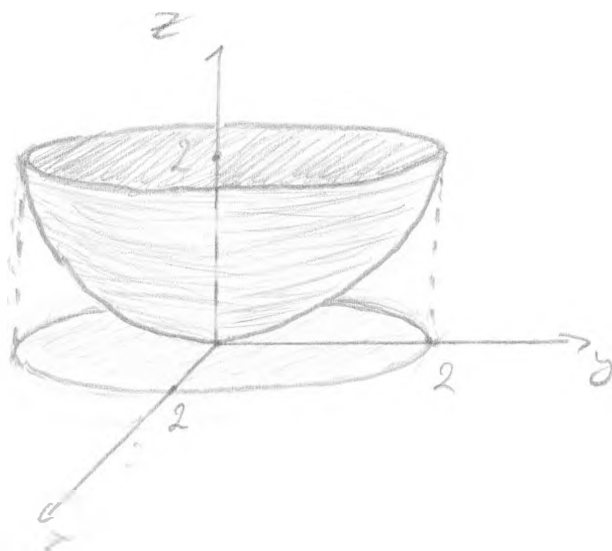
(0- $\pi/2$)

Άρα

$$I = \int_{-\pi/3}^{\pi/3} \int_{\frac{1}{2 \cos \theta}}^1 \frac{(r \cos \theta)^3}{r^3} r dr d\theta$$

$$= \int_{-\pi/3}^{\pi/3} \cos^3 \theta \left[\frac{1}{2} \left(1 - \frac{1}{4 \cos^2 \theta} \right) \right] d\theta = \frac{\sqrt{3}}{4}$$

6.



Έχουμε

$$G = \left\{ (x, y, z) : \frac{x^2 + y^2}{2} \leq z \leq 2 \right\}$$

Χρησιμοποιούμε κυλινδρικές συντεταγμένες,
οπότε

$$G = \left\{ (r, \theta, z) : 0 \leq z \leq 2, r \leq \sqrt{2z} \right\}$$

Παίρνουμε

$$\iiint_G z(x^2 + y^2)^{-\frac{1}{2}} dx dy dz =$$

$$= \int_0^{2\pi} \int_0^2 \int_0^{\sqrt{2z}} z r^{-1} r dr dz d\theta$$

$$= 2\pi \int_0^2 z \int_0^{\sqrt{2z}} dr dz = 2\pi \int_0^2 z \sqrt{2z} dz$$

$$= \frac{32\pi}{5}$$

7.

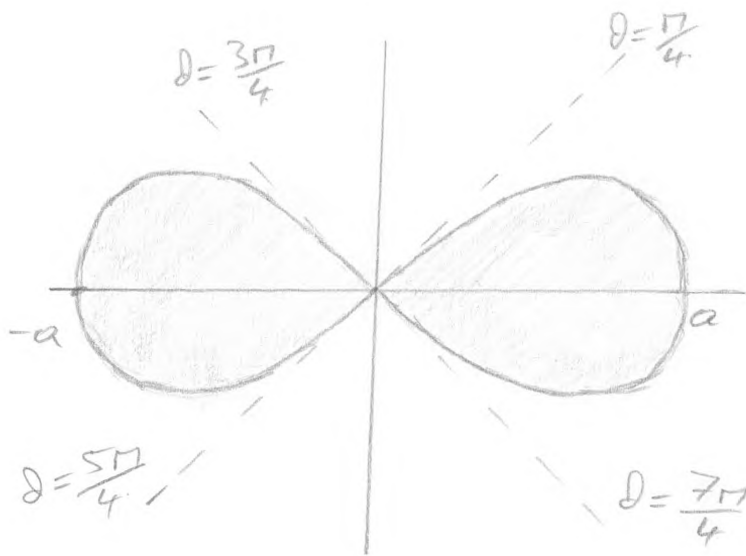
9

$$D = \{(r, \theta) : r^2 \leq a^2 \cos 2\theta\}$$

Πρέπει $\cos 2\theta \geq 0 \Rightarrow$ (για $\theta \in [0, 2\pi]$)

$$\Rightarrow \theta \in [0, \frac{\pi}{4}] \cup [\frac{3\pi}{4}, \frac{5\pi}{4}] \cup [\frac{7\pi}{4}, 2\pi]$$

$$(ii, \alpha \nu \theta \in [-\frac{\pi}{4}, \frac{7\pi}{4}], \theta \in [-\frac{\pi}{4}, \frac{\pi}{4}] \cup [\frac{3\pi}{4}, \frac{5\pi}{4}])$$



Λόγω συμμετρίας

$$E = 2 \times \text{εμβαδόν (δεξιά ημισού)}$$

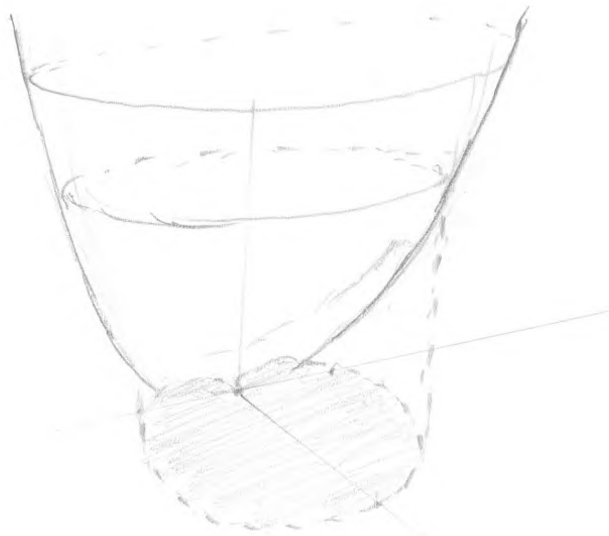
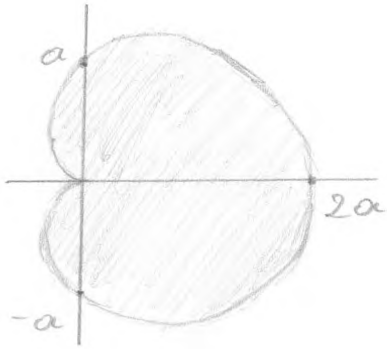
$$= 2 \iint dx dy$$

$$= 2 \int_{-\frac{\pi}{4}}^{\frac{\pi}{4}} \int_0^{a\sqrt{\cos 2\theta}} r dr d\theta = 2 \int_{-\frac{\pi}{4}}^{\frac{\pi}{4}} \left[\frac{r^2}{2} \right]_0^{a\sqrt{\cos 2\theta}} d\theta$$

$$= \frac{a^2}{2} \int_{-\frac{\pi}{4}}^{\frac{\pi}{4}} \cos 2\theta d\theta = \frac{a^2}{2}$$

δ.

10



Συμβολίζοντας με D το κροδωμένο
έχουμε

$$V = \iint_D (x^2 + y^2) dx dy.$$

Χρησιμοποιούμε πολικές συντεταγμένες
και έχουμε

$$V = \int_0^{2\pi} \int_0^{a(1+\cos\theta)} r^2 \cdot r dr d\theta$$

$$= \frac{1}{4} \int_0^{2\pi} a^4 (1+\cos\theta)^4 d\theta$$

$$= \frac{35\pi}{16} a^4$$

9. Χρησιμοποιώντας σφαιρικές συντεταγμένες:

11

$$\iiint_{\mathbb{R}^3} (x^2 + y^2 + z^2)^{-\alpha} dx dy dz =$$

$$= \int_0^{\infty} \int_0^{\pi} \int_0^{2\pi} \rho^{-2\alpha} \rho^2 \sin \theta d\theta d\phi d\rho$$

$$= 4\pi \int_0^{\infty} \rho^{2-2\alpha} d\rho$$

Το ολοκλήρωμα αυτό είναι κντχρμσικό και στο 0 και στο $+\infty$. Για να συγκλίνει στο 0 πρέπει $2-2\alpha > -1$ ενώ για να συγκλίνει στο $+\infty$ πρέπει $2-2\alpha < -1$. Άρα το ολοκλήρωμα δε συγκλίνει για καμία τιμή του α .

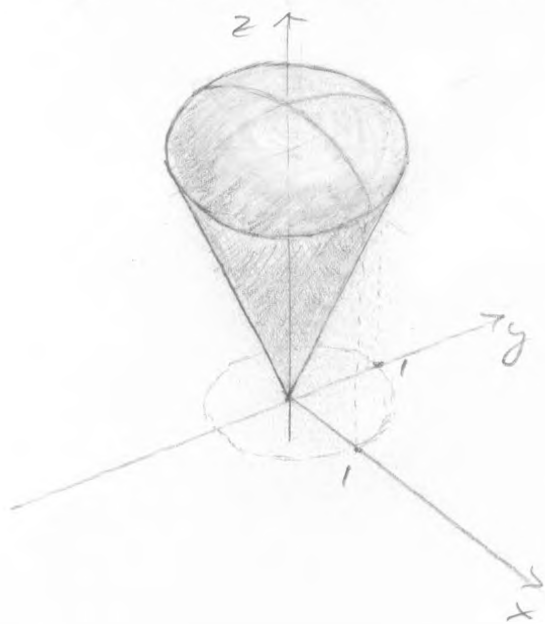
10. Ο κώνος και η σφαίρα

12

τεμνούνται στα σημεία (x, y, z) που είναι λύσεις του συστήματος

$$\begin{cases} z = \sqrt{3(x^2 + y^2)} \\ x^2 + y^2 + z^2 = 4 \end{cases}$$

Αναζητώντας το z βρίσκουμε ότι η λύση είναι ο κύκλος $z = \sqrt{3}$, $x^2 + y^2 = 1$.



Άρα το στερεό, έστω G , είναι το

$$G = \{(x, y, z) : x^2 + y^2 \leq 1, \sqrt{3(x^2 + y^2)} \leq z \leq \sqrt{4 - x^2 - y^2}\}$$

Καλύτερα σε κυλινδρικές συντεταγμένες:

$$G = \{(r, \theta, z) : 0 \leq r \leq 1, \sqrt{3}r \leq z \leq \sqrt{4 - r^2}\}$$

Onote

13

$$\text{vol}(G) = \iiint_G dV$$

$$= \int_0^{2\pi} \int_0^1 \int_{\sqrt{3}r}^{\sqrt{4-r^2}} r \, dz \, dr \, d\theta$$

$$= 2\pi \int_0^1 r (\sqrt{4-r^2} - \sqrt{3}r) \, dr$$

$$= 2\pi \left[-\frac{1}{3}(4-r^2)^{\frac{3}{2}} - \frac{\sqrt{3}}{2}r^2 \right]_0^1$$

$$= 2\pi \left(\frac{2}{3} - \frac{3\sqrt{3}}{2} \right)$$

Λύσεις πεπρωτων φύλλου ασκήσεων

1. Με αυτές προζεις (παραδειχονται)

βλινουμε οτι $\text{curl } \vec{F} = \vec{0}$. Επειδι το

\vec{F} οριζεται και ειναι C^1 σε ολο το \mathbb{R}^3 ,

επειτα οτι το \vec{F} ειναι συντηρητικο;

δηλαδι υπαρχει $\varphi: \mathbb{R}^3 \rightarrow \mathbb{R}$ ωστε $\vec{F} = \nabla \varphi$.

Γραφουμε $\vec{F} = (P, Q, R)$ και εχουμε:

$$\varphi = \int \varphi_x dx = \int (y e^{xy} \cos z + 2x \sin(yz) + x) dx$$

$$= e^{xy} \cos z + x^2 \sin(yz) + \frac{x^2}{2} + h_1(y, z)$$

Επειτα

$$\varphi = \int \varphi_y dy = \int (x e^{xy} \cos z + z x^2 \cos(yz) - e^y) dy$$

$$= e^{xy} \cos z + x^2 \sin(yz) - e^y + h_2(x, z)$$

και παρομοια

$$\varphi = \int \varphi_z dz = \int (y x^2 \cos(yz) - e^{xy} \sin z + 2z) dz$$

$$= x^2 \sin(yz) + e^{xy} \cos z + z^2 + h_3(x, y)$$

2
Από τις τρεις παραπάνω σχέσεις φαίνεται
και την αντιστοίχηση παίρνουμε

$$\frac{x^2}{2} + h_1(y, z) = -e^y + h_2(x, z) = z^2 + h_3(x, y) \quad (*)$$

Μπορούμε να συζητήσουμε "πλ το φατί"
ότι

$$h_1(y, z) = -e^y + z^2 + c.$$

$$h_2(x, z) = \frac{x^2}{2} + z^2 + c.$$

$$h_3(x, y) = \frac{x^2}{2} - e^y + c.$$

Η αν θέλουμε πιο απλά: παρατηρούμε
Συμφωνία ως προς x την (*)

$$x = \frac{\partial h_2}{\partial x} = \frac{\partial h_3}{\partial x}$$

Άρα, θεωρούμε ως προς x,

$$h_2(x, y) = \frac{x^2}{2} + g_1(z)$$

$$h_3(x, y) = \frac{x^2}{2} + g_2(y)$$

Αντικαθιστώντας στην (*) καταλήγουμε ότι

$$h_1(y, z) = -e^y + g_1(z) = z^2 + g_2(y)$$

άρα

$$g_1(z) - z^2 = e^y + g_2(y)$$

άρα $g_1(z) - z^2 = e^y + g_2(y) = c_1$

Καταλιγουμε τεζικα οτι

$$\varphi(x,y,z) = e^{xy} \cos z + x^2 \sin(yz) + \frac{x^2}{2} - e^y + z^2 + c \quad \left(\begin{matrix} \text{μιζη} \\ c=0 \end{matrix} \right)$$

Συμφωνα με τη θεωρικε εχουμε

$$\int_C \vec{F} \cdot d\vec{r} = \int_C \nabla \varphi \cdot d\vec{r} = \varphi(\vec{r}(m)) - \varphi(\vec{r}(0))$$

Εχουμε

$$\varphi(\vec{r}(0)) = \varphi(0,0,0) = 0$$

$$\begin{aligned} \varphi(\vec{r}(m)) &= \varphi(-\pi^3, 0, \pi e^\pi) \\ &= \cos(\pi e^\pi) + \frac{\pi^6}{2} - 1 + \pi^2 e^{2\pi} \end{aligned}$$

και ορα

$$\int_C \vec{F} \cdot d\vec{r} = \cos(\pi e^\pi) + \frac{\pi^6}{2} - 1 + \pi^2 e^{2\pi}$$

2. Ερεξεζομε οτις ονη προηγοιου αν δουμεν. Εστω $\vec{F} = (P, Q, R)$.

Οι συνιστωσες του curl \vec{F} ειναι

$$(\text{curl } \vec{F})_1 = R_y - Q_z = 4yz - 4yz = 0$$

$$(\text{curl } \vec{F})_2 = P_z - R_x = 1 - 1 = 0$$

$$(\text{curl } \vec{F})_3 = Q_x - P_y = 2x - 2x = 0$$

Το \vec{F} είναι C^∞ διανυσματικό πεδίο στο \mathbb{R}^3 , είναι αστροβίλο, και είναι συντηρητικό. Έστω φ τέτοια ώστε

$$\nabla \varphi = \vec{F}.$$

Έχουμε

$$\begin{aligned} \varphi(x, y, z) &= \int \varphi_x dx = \int P dx = \int (2xy + z - 1) dx \\ &= x^2 y + xz - x + h(y, z) \end{aligned}$$

Παραγωγίζουμε ως προς y :

$$Q = \varphi_y = x^2 + \frac{\partial h}{\partial y}$$

$$x^2 + 2yz^2$$

$$\Rightarrow \frac{\partial h}{\partial y} = 2yz^2$$

$$\Rightarrow h(y, z) = \int \frac{\partial h}{\partial y} dy = \int 2yz^2 dy = y^2 z^2 + g(z)$$

Συμπερασμα

4

$$\varphi(x, y, z) = x^2y + xz - x + y^2z^2 + g(z)$$

Παράγωγοι του φ ως προς z :

$$R = \varphi_z = x + 2y^2z + g'(z)$$

"

$$2y^2z + x - 2z$$

Αρα $g'(z) = 2z$, άρα $g(z) = z^2 + c$

Κατά συνθήκη συνόρων (Γε $c=0$) στην

$$\varphi(x, y, z) = x^2y + xz - x + y^2z^2 + z^2$$

Έχουμε $\gamma(0) = (0, 0, 0)$, άρα

$$\varphi(\gamma(0)) = \varphi(0, 0, 0) = 0$$

Επίσης $\gamma(4\pi) = (\pi, \pi, (4\pi)^{2/3})$, άρα

$$\varphi(\gamma(4\pi)) = \pi^4 + \pi^3 - \pi + \pi(4\pi)^{2/3} + (4\pi)^{16/3}$$

Τελικά

$$\int_C \vec{F} \cdot d\vec{r} = \varphi(\gamma(4\pi)) - \varphi(\gamma(0))$$

$$= \pi^4 + \pi^3 - \pi + \pi(4\pi)^{2/3} + (4\pi)^{16/3}$$

3. Έχουμε

$$x^2 + y^2 = 2x$$

$$\Leftrightarrow (x-1)^2 + y^2 = 1$$

Μία παραμετρικὴ του κύκλου αυτού (στο \mathbb{R}^2) είναι η.

$$(x(t), y(t)) = (1 + \cos t, \sin t), \quad t \in [0, 2\pi]$$

Επιλέγουμε

$$z(t) = \sqrt{4 - x(t)^2 - y(t)^2} = \sqrt{4 - 2x(t)}$$

$$= \sqrt{2 - 2\cos t} = 2 \sqrt{\sin^2 \frac{t}{2}} = 2 \sin \frac{t}{2}$$

έχουμε ότι η

$$\vec{r}(t) = (x(t), y(t), z(t))$$

$$= (1 + \cos t, \sin t, 2 \sin \frac{t}{2}), \quad 0 \leq t \leq 2\pi$$

είναι μία παραμετρικὴ της τόξης.

Έχουμε

$$\vec{r}'(t) = (-\sin t, \cos t, \cos \frac{t}{2})$$

και

$$\|\vec{r}'(t)\| = (1 + \cos^2 \frac{t}{2})^{\frac{1}{2}}$$

και συνεπώς

$$L(\vec{r}) = \int_{\vec{r}} ds = \int_0^{2\pi} (1 + \cos^2 \frac{t}{2})^{\frac{1}{2}} dt$$

Μία παραμετρική της εικόνας

$$x^2 + \frac{y^2}{2} = 1 \text{ είναι } \sim$$

$$\vec{\sigma}(t) = (\cos t, \sqrt{2} \sin t), \quad t \in [0, 2\pi]$$

Συναρτήσεις το μήκος της είναι

$$l(\vec{\sigma}) = \int_{\vec{\sigma}} ds = \int_0^{2\pi} \|\vec{\sigma}'(t)\| dt$$

$$= \int_0^{2\pi} (\sin^2 t + 2 \cos^2 t)^{\frac{1}{2}} dt$$

$$= \int_0^{2\pi} (1 + \cos^2 t)^{\frac{1}{2}} dt$$

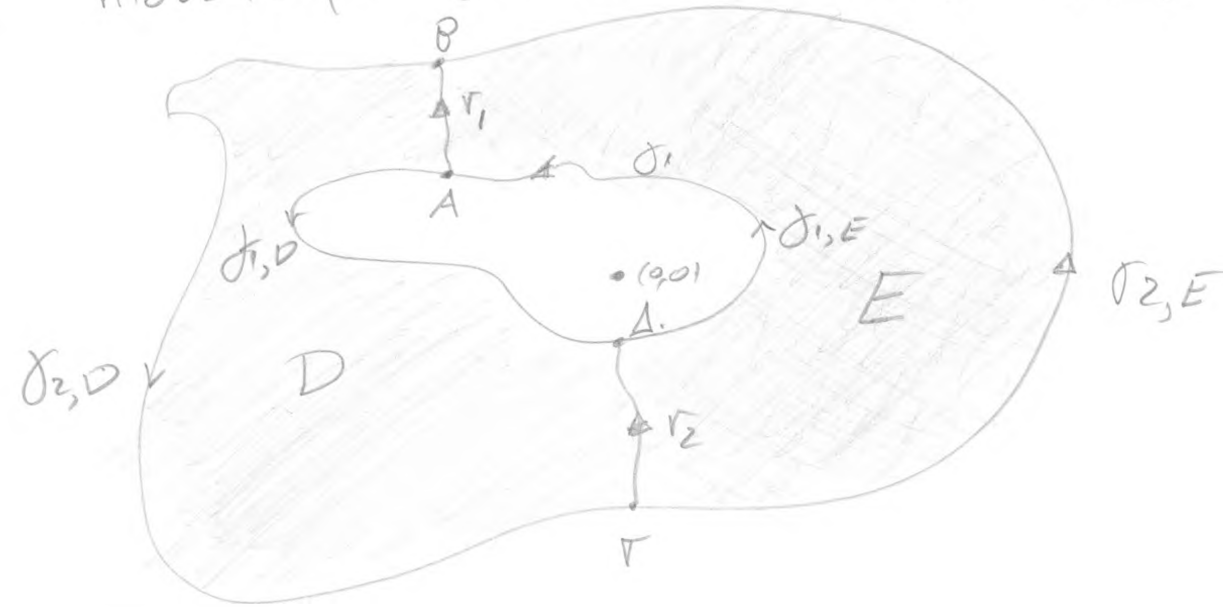
$$t = \frac{\pi}{2}$$

$$= \frac{1}{2} \int_0^{4\pi} (1 + \cos^2 \frac{t}{2})^{\frac{1}{2}} dt$$

$$= \int_0^{2\pi} (1 + \cos^2 \frac{t}{2})^{\frac{1}{2}} dt$$

$$= l(\vec{j})$$

4. Υποδείξτε πρώτα ότι $\chi(\partial_1) \cup \chi(\partial_2) = \emptyset$.



Φέρνουμε καμπύλες γ_1, γ_2 όπως στο σχήμα. Προκύπτουν έτσι δύο χωρία D, E , τα οποία είναι αλληλίσυμμετρα. Από γνωστό θεώρημα έπεται ότι

$$\int_{\partial D} \vec{F} \cdot d\vec{r} = \int_{\partial E} \vec{F} \cdot d\vec{r} = 0 \quad \left(\begin{array}{l} \text{θετική} \\ \text{φορά ολο-} \\ \text{κλήσεως} \end{array} \right)$$

Συμβολίζουμε με $\sigma_{1,D}$ το τμήμα της ∂_1 που ξεκινά από το A και καταλήγει στο Δ και με $\sigma_{1,E}$ το τμήμα από το Δ στο A. Αντιστοίχα ορίζουμε τις $\sigma_{2,D}$ και $\sigma_{2,E}$: η $\sigma_{2,D}$ ξεκινά από το P και καταλήγει στο Γ ενώ η $\sigma_{2,E}$ ξεκινά από το Γ και καταλήγει στο P.

Έχουμε τότε

9

$$\int_{\partial D} \vec{F} \cdot d\vec{r} = \int_{\gamma_1} \vec{F} \cdot d\vec{r} + \int_{\partial_{2,D}} \vec{F} \cdot d\vec{r} + \int_{\gamma_2} \vec{F} \cdot d\vec{r} - \int_{\partial_{1,D}} \vec{F} \cdot d\vec{r}$$

$$\int_{\partial E} \vec{F} \cdot d\vec{r} = -\int_{\partial_{1,E}} \vec{F} \cdot d\vec{r} - \int_{\gamma_2} \vec{F} \cdot d\vec{r} + \int_{\partial_{2,E}} \vec{F} \cdot d\vec{r} - \int_{\gamma_1} \vec{F} \cdot d\vec{r}$$

Προσθέτοντας κατά μέλην παίρνουμε

$$0 = \int_{\partial_{2,D}} \vec{F} \cdot d\vec{r} + \int_{\partial_{2,E}} \vec{F} \cdot d\vec{r} - \left(\int_{\partial_{1,D}} \vec{F} \cdot d\vec{r} + \int_{\partial_{1,E}} \vec{F} \cdot d\vec{r} \right)$$

$$= \int_{\partial_2} \vec{F} \cdot d\vec{r} - \int_{\partial_1} \vec{F} \cdot d\vec{r}$$

Αν $\chi_{\nu}(\partial_1) \cap \chi_{\nu}(\partial_2) \neq \emptyset$, τότε μπορούμε να θεωρήσουμε κομμάτι σ που δεν τείνει τις ∂_1, ∂_2 , και έχουμε από το προηγούμενο

$$\int_{\partial_1} \vec{F} \cdot d\vec{r} = \int_{\sigma} \vec{F} \cdot d\vec{r}, \quad \int_{\partial_2} \vec{F} \cdot d\vec{r} = \int_{\sigma} \vec{F} \cdot d\vec{r}$$

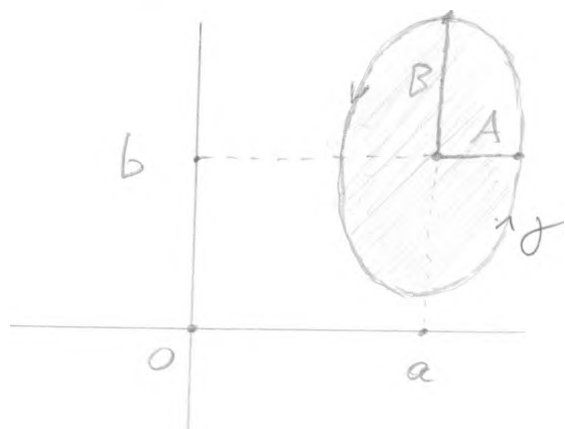


5 Η υπόθεση $\frac{a^2}{A^2} + \frac{b^2}{B^2} \neq 1$ σημαίνει
 ότι η ελλειψική δακτύλιος περιέχεται από
 την αριστερή των αξόνων.

Διακρίνονται δύο περιπτώσεις:

(α) $\frac{a^2}{A^2} + \frac{b^2}{B^2} > 1$

Τότε $(a, 0) \in \text{ext}(\gamma)$.



Η διαφορική μορφή $\frac{-y}{x^2+y^2} dx + \frac{x}{x^2+y^2} dy$
 είναι κλειστή (δηλ. $P_y = Q_x$) σε ένα ανοιχτό
 συνεκτικό σύνολο που περιέχει τη γ .

(αχί στην "γονιωματική" ελλειψική $\frac{(x-a)^2}{A^2} + \frac{(y-b)^2}{B^2} = 1 + \epsilon$
 για αρκετά μικρό $\epsilon > 0$). Από γνωστό

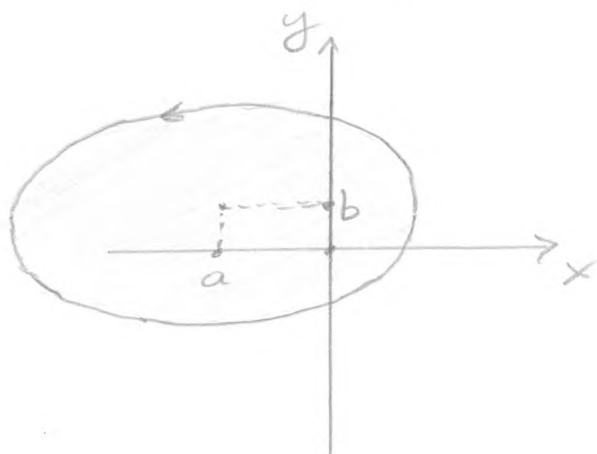
θεώρημα έπεται ότι

$$\int_{\gamma} \frac{-y}{x^2+y^2} dx + \frac{x}{x^2+y^2} dy = 0$$

$$(b) \frac{a^2}{A^2} + \frac{b^2}{B^2} < 1$$

11

Τίπος $(0,0) \in \text{int}(D)$



Από την άσκηση 4 έπεται ότι

$$\int_{\partial} \frac{-y}{x^2+y^2} dx + \frac{x}{x^2+y^2} dy = \int_{S(1)} \frac{-y}{x^2+y^2} dx + \frac{x}{x^2+y^2} dy$$

(γνωστό, σελ 84-85)

$$= 2\pi$$

6. Πρέπει να δείξουμε ότι

$$\iiint_{\bar{B}(R)} \operatorname{div} \vec{F} \, dV = \iint_{S(R)} \vec{F} \cdot \vec{n} \, dS$$

Έχουμε $\operatorname{div} \vec{F} = 3z^2$. Χρησιμοποιούμε
 πολικές συντεταγμένες και υπολογίζουμε:

$$\begin{aligned} \iiint_{\bar{B}(R)} \operatorname{div} \vec{F} \, dV &= \int_0^R \int_0^\pi \int_0^{2\pi} 3(\rho \cos \varphi)^2 \rho^2 \sin \varphi \, d\theta \, d\varphi \, d\rho \\ &= 6\pi \left(\int_0^R \rho^4 \, d\rho \right) \left(\int_0^\pi \cos^2 \varphi \sin \varphi \, d\varphi \right) \\ &= \frac{4\pi R^5}{5} \end{aligned}$$

Για το επιφανειακό ολοκλήρωμα, με-
 τηρούμε κατ'αρχήν ότι στο τυχαίο
 $(x, y, z) \in S(R)$ έχουμε

$$\vec{n} = \frac{1}{R} (x, y, z)$$

Άρα

$$\begin{aligned} \vec{F} \cdot \vec{n} &= (0, 0, z^3) \cdot \frac{1}{R} (x, y, z) \\ &= \frac{z^4}{R} \end{aligned}$$

Χρησιμοποιούμε την παραμετρική

$$\vec{r}(\varphi, \theta) = (R \sin \varphi \cos \theta, R \sin \varphi \sin \theta, R \cos \varphi),$$

$0 \leq \varphi \leq \pi, 0 \leq \theta \leq 2\pi$

της σφαίρας $S(R)$.

Έχουμε (όπως σε σελ 107-108) ότι

$$\|\vec{r}_\varphi \times \vec{r}_\theta\| = R^2 \sin \varphi$$

Αρα

$$\iint_{S(R)} \vec{F} \cdot \vec{n} \, dS = \frac{1}{R} \iint_{S(R)} z^4 \, dS$$

$$= \frac{1}{R} \iint_{[0, \pi] \times [0, 2\pi]} (R \cos \varphi)^4 \|\vec{r}_\varphi \times \vec{r}_\theta\| \, d\varphi \, d\theta$$

$$= R^3 \int_0^{2\pi} \int_0^\pi \cos^4 \varphi \cdot R^2 \sin \varphi \, d\varphi \, d\theta$$

$$= 2\pi R^5 \int_0^\pi \cos^4 \varphi \sin \varphi \, d\varphi$$

$$= 2\pi R^5 \frac{2}{5}$$

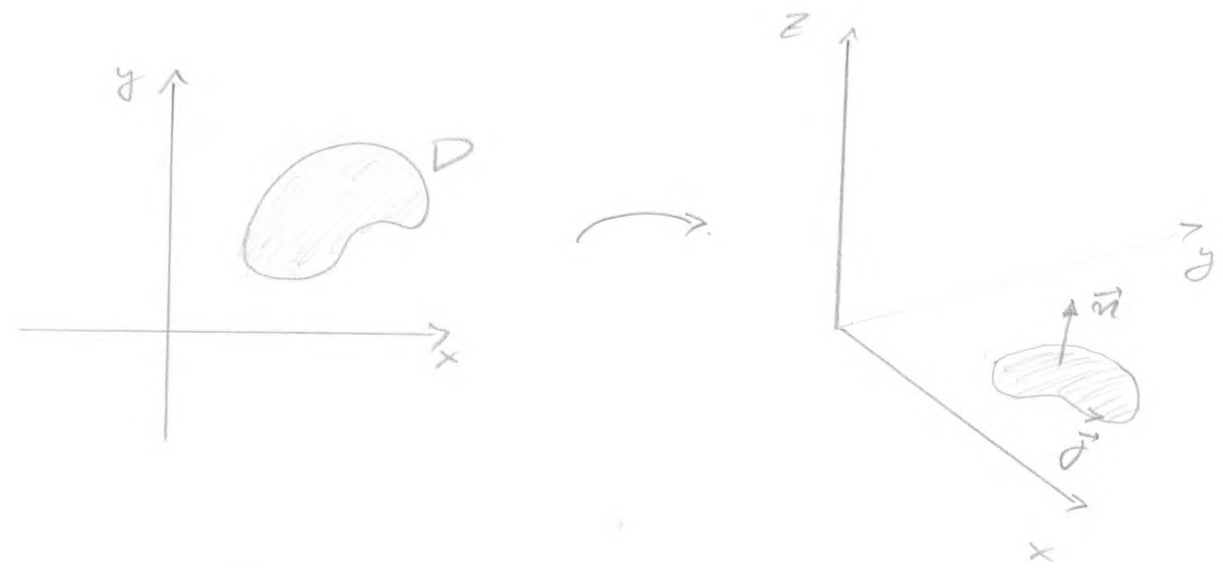
$$= \frac{4\pi R^5}{5}$$

7. Θέλουμε να αποδείξουμε τον τύπο του Green

$$\int_{\partial D} P dx + Q dy = \iint_D (Q_x - P_y) dx dy$$

όπου $P, Q \in C^1$ συναρτήσεις στο $A \subset \mathbb{R}^2$ και $D \subset A$ αντίσυνεκτικό σύνολο με C^1 σύνορο.

Βλέπουμε το πρόβλημα στο \mathbb{R}^3



Στον κύλινδρο $A \times \mathbb{R}$ ορίζουμε το διανυσματικό πεδίο

$$\vec{F}(x, y, z) = (P(x, y), Q(x, y), 0)$$

Η επιφάνεια $S = D \times \{0\} \subset \mathbb{R}^3$ είναι ανοιχτή, οφαινή, προσανατολισμένη και ένα κλειστό διάνυσμα είναι το $\vec{n} = (0, 0, 1)$. Ο θετικός προσανατολισμός του ∂S ως προς \vec{n}

είναι αυτές της μορφής των διευκτιών του ρολογιού. Άρα αν

$$(x(t), y(t)), t \in [0, 1]$$

είναι μία παραμετρικόν (θετική μορφή) του ∂D , τότε η

$$f(t) = (x(t), y(t), 0), t \in [0, 1]$$

είναι μία κατιόντη παραμετρικόν του ∂S .

Το θεώρημα του Stokes δίνει

$$\iint_S (\text{curl } \vec{F}) \cdot \vec{n} dS = \int_{\partial S} \vec{F} \cdot d\vec{r}$$

Έχουμε

$$\text{curl } \vec{F} = \begin{vmatrix} \vec{i} & \vec{j} & \vec{k} \\ \frac{\partial}{\partial x} & \frac{\partial}{\partial y} & \frac{\partial}{\partial z} \\ P & Q & 0 \end{vmatrix} = (0, 0, Q_x - P_y)$$

και λέει $\text{curl } \vec{F} \cdot \vec{n} = Q_x - P_y$.

Μία παραμετρικόν της S είναι η

$$(x, y, 0), (x, y) \in D$$

Ισχύει

$$\vec{r}_x = (1, 0, 0) \quad , \quad \vec{r}_y = (0, 1, 0)$$

άρα $\vec{r}_x \times \vec{r}_y = (0, 0, 1)$ και $\|\vec{r}_x \times \vec{r}_y\| = 1$.

Συνεπώς

$$\iint_S (\text{curl } \vec{F}) \cdot \vec{n} \, dS = \iint_D (Q_x - P_y) \|\vec{r}_x \times \vec{r}_y\| \, dx \, dy$$

$$= \iint_D (Q_x - P_y) \, dx \, dy$$

Επίσης

$$\int_{\partial S} \vec{F} \cdot d\vec{r} = \int_{\vec{\gamma}} P \, dx + Q \, dy + O \, dz$$

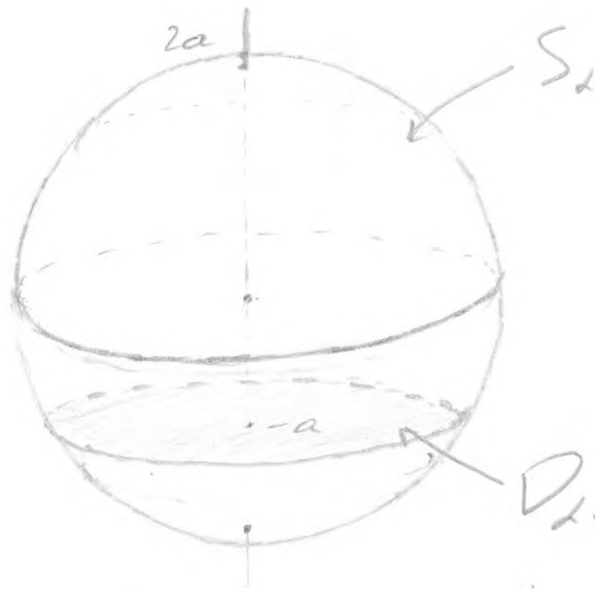
$$= \int_0^1 [P(x(t), y(t)) x'(t) + Q(x(t), y(t)) y'(t)] \, dt$$

$$= \int_{\partial D} P \, dx + Q \, dy$$

Άρα έχουμε το Σημείωμα.

8.

17



$$\partial K_a = S_a \cup D_a$$

Για ένα σημείο $(x, y, z) = (2a \sin \varphi \cos \theta, 2a \sin \varphi \sin \theta, 2a \cos \varphi)$
 της σφαίρας ισχύει $z \geq -a$ αν $\cos \varphi \geq -\frac{1}{2}$,
 δηλαδή αν $\varphi \in [0, \frac{2\pi}{3}]$. Άρα η παρα-
 μέτρηση του S_a είναι π .

$$\vec{r}(\varphi, \theta) = (2a \sin \varphi \cos \theta, 2a \sin \varphi \sin \theta, 2a \cos \varphi),$$

$$\varphi \in [0, \frac{2\pi}{3}], \theta \in [0, 2\pi].$$

Επίσης το ^{εσωτερικό} κανονικό διάνυσμα στο $\vec{r} \in S_a$
 είναι το $\vec{b} = \frac{\vec{r}}{\|\vec{r}\|} = \frac{\vec{r}}{2a}$. Άρα

$$\vec{F}(\vec{r}) \cdot \vec{b} = \|\vec{r}\|^{-3} \vec{r} \cdot \frac{\vec{r}}{2a} = \frac{1}{4a^2}$$

Συνεπώς

$$\iint_{S_2} \vec{F} \cdot \vec{\nu} dS = \int_0^{2\pi} \int_0^{\frac{2\pi}{3}} \frac{1}{4\alpha^2} \|\vec{r}_\varphi - \vec{r}_0\| d\varphi d\theta$$

$$= \int_0^{2\pi} \int_0^{\frac{2\pi}{3}} \frac{1}{4\alpha^2} (2\alpha)^2 \sin\varphi d\varphi d\theta$$

$$= 2\pi \int_0^{\frac{2\pi}{3}} \sin\varphi d\varphi$$

$$= 3\pi$$



Το ∂K_α αποτελείται από δύο τμήματα:
το S_2 και τον κυλινδρικό δίσκο

$$D_\alpha = \{(x, y, z) : x^2 + y^2 + z^2 \leq 4\alpha^2, z = -\alpha\}$$

Συνεπώς

$$\iint_{\partial K_\alpha} \vec{F} \cdot \vec{\nu} dS = \iint_{S_2} \vec{F} \cdot \vec{\nu} dS + \iint_{D_\alpha} \vec{F} \cdot \vec{\nu} dS$$

↓
3π

Το εξωτερικό μοναδιαίο κίδατο στο D_α 19
είναι το $\vec{D} = (0, 0, -1)$. Άρα, στο D_α έχουμε

$$\vec{F} \cdot \vec{D} = \|\vec{F}\|^{-3} \vec{r} \cdot (0, 0, -1) = -\|\vec{r}\|^{-3} z = \alpha \|\vec{r}\|^{-3}$$

Έχουμε

$$D_\alpha = \{(x, y, z) : x^2 + y^2 \leq 3\alpha^2, z = -\alpha\}$$

Άρα μια παραμετρποίηση του D_α είναι ~

$$\vec{r}(x, y) = \{(x, y, -\alpha) : (x, y) \in \bar{D}(\sqrt{3}\alpha)\}$$

Άρα

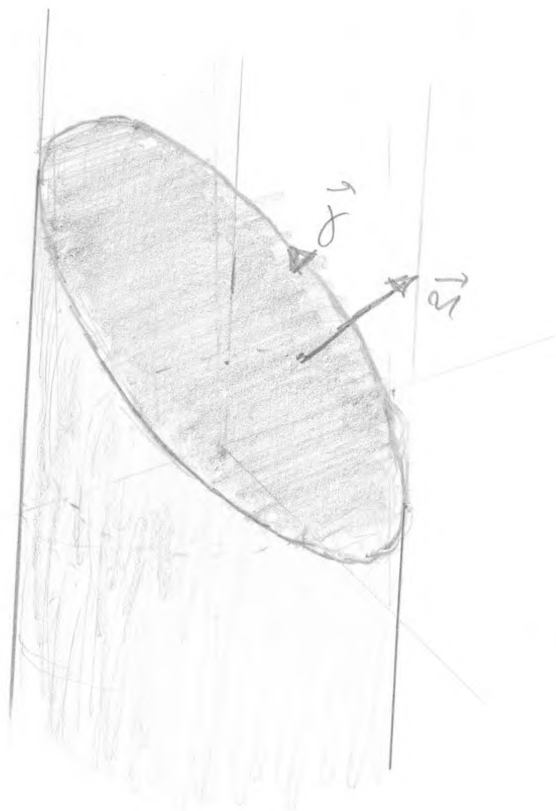
$$\iint_{D_\alpha} \vec{F} \cdot \vec{D} = \iint_{\bar{D}(\sqrt{3}\alpha)} \alpha \cdot (x^2 + y^2 + \alpha^2)^{-\frac{3}{2}} \overbrace{\|\vec{r}_x \times \vec{r}_y\|}^1 dx dy$$

$$= \int_0^{\sqrt{3}\alpha} \int_0^{2\pi} \alpha \cdot (r^2 + \alpha^2)^{-\frac{3}{2}} r d\theta dr$$

$$= 2\pi\alpha \int_0^{\sqrt{3}\alpha} (r^2 + \alpha^2)^{-\frac{3}{2}} r dr$$

$$= \pi$$

Άρα τελικά $\iint_{\partial K_\alpha} \vec{F} \cdot \vec{D} dS = 4\pi$



Από τον τύπο του Stokes έχουμε

$$\int_C \vec{F} \cdot d\vec{r} = \iint_S (\text{curl } \vec{F}) \cdot \vec{n} \, dS$$

όπου $S = \{(x, y, z) : x^2 + y^2 \leq 1, x + y + z = 1\}$.

και $\vec{n} = \frac{1}{\sqrt{3}}(1, 1, 1)$. Έχουμε

$$\text{curl } \vec{F} = \begin{vmatrix} \vec{i} & \vec{j} & \vec{k} \\ \frac{\partial}{\partial x} & \frac{\partial}{\partial y} & \frac{\partial}{\partial z} \\ -y^3 & x^3 & z^3 \end{vmatrix} = (0, 0, 3x^2 + 3y^2)$$

και έτσι

$$\text{curl } \vec{F} \cdot \vec{n} = \sqrt{3}(x^2 + y^2)$$

Με παραμετρικοποίηση του S είναι m .

21

$$\vec{r}(x,y) = (x, y, 1-x-y), \quad (x,y) \in \overline{D(1)}$$

Εχουμε

$$\vec{r}_x = (1, 0, -1), \quad \vec{r}_y = (0, 1, -1)$$

οπότε

$$\vec{r}_x \times \vec{r}_y = \begin{vmatrix} i & j & k \\ 1 & 0 & -1 \\ 0 & 1 & -1 \end{vmatrix} = (1, 1, 1).$$

Συνεπώς

$$\iint_S (\operatorname{curl} \vec{F}) \cdot \vec{n} \, dS = \iint_{\overline{D(1)}} \sqrt{3} (x^2 + y^2) \|\vec{r}_x \times \vec{r}_y\| \, dx \, dy$$

$$= 3 \iint_{\overline{D(1)}} (x^2 + y^2) \, dx \, dy = 3 \int_0^{2\pi} \int_0^1 r^2 \cdot r \, dr \, d\theta$$

$$= 6\pi \int_0^1 r^3 \, dr$$

$$= \frac{3\pi}{2}$$

21/5/2020

1

Άσκηση 3.7

• Να υπολογιστεί, αν υπάρχει, το

$$\lim_{(x,y) \rightarrow (0,0)} \frac{e^{x \cos y} - e^{\sqrt{x^2+y^2}} - x}{\sqrt{x^2+y^2}}$$

Έχουμε

$$f(x,0) = \frac{e^x - e^{|x|} - x}{|x|}$$

$$= \begin{cases} -1, & x > 0 \\ \frac{e^x - e^{-x} - x}{-x}, & x < 0 \end{cases}$$

$$\rightarrow -1, \text{ όταν } x \rightarrow 0$$

και

$$f(0,y) = \frac{1 - e^{|y|}}{|y|} \rightarrow -1, \text{ όταν } y \rightarrow 0.$$

Συνεπώς όπως και να είναι το -1 είναι όριο.

Μας δίνουν το εκδοτικό.

Ξέρουμε ότι $e^t \approx 1+t$ για μικρά t .

Πιο συγκεκριμένα, από τον τύπο του Taylor

2

$$e^t = 1 + t + \frac{e^{\xi}}{2} t^2 \quad \left(\begin{array}{l} \xi \text{ μεταξύ των} \\ 0, t \end{array} \right)$$

Παίρνουμε ότι

$$|e^t - 1 - t| \leq \frac{t^2}{2}$$

για t κοντά στο μηδέν (αφ. με e^t)

Έχουμε τότε:

$$\begin{aligned} |f(x,y) + 1| &= \left| \frac{e^{x \cos y} - e^{\sqrt{x^2+y^2}} - x - \sqrt{x^2+y^2}}{\sqrt{x^2+y^2}} \right| \\ &= \left| \frac{e^{x \cos y} - 1 - x \cos y - (e^{\sqrt{x^2+y^2}} - 1 - \sqrt{x^2+y^2}) - x + x \cos y}{\sqrt{x^2+y^2}} \right| \end{aligned}$$

(για (x,y) κοντά στο $(0,0)$)

$$\leq \frac{(x^2 \cos^2 y) + (x^2 + y^2) + |x|(1 - \cos y)}{\sqrt{x^2 + y^2}}$$

$$\leq \frac{x^2}{\sqrt{x^2 + y^2}} + \sqrt{x^2 + y^2} + 2|x|$$

$\rightarrow 0$

$(x,y) \rightarrow (0,0)$

$$\lim_{(x,y) \rightarrow (0,0)} \frac{e^{x \cos y} - x - |x| - |y| - 1}{\sqrt{x^2 + y^2}}$$

Σκευτάμαστε όπως πριν και διαχωρίζουμε το ευστατικό. Έχουμε

$$f(x,y) = \underbrace{\frac{e^{x \cos y} - 1 - x \cos y}{\sqrt{x^2 + y^2}}}_{e(x,y)} + \underbrace{\frac{x \cos y - x - |x| - |y|}{\sqrt{x^2 + y^2}}}_{f_1(x,y)}$$

Έχουμε για (x,y) κοντά στο $(0,0)$

$$|e(x,y)| \leq \frac{x^2 \cos^2 y}{\sqrt{x^2 + y^2}} \leq \sqrt{x^2 + y^2} \xrightarrow{(x,y) \rightarrow (0,0)} 0$$

Άρα αρκεί να μελετήσουμε την f_1 (ότι ισχύει για την f_1 θα ισχύει και για την f)

Κοιτάμε τι γίνεται πάνω στις ευθείες $y=2x$

$$f_1(x, 2x) = \frac{x \cos 2x - x - |x| - |2x| \cdot |x|}{|x| \sqrt{1+2^2}}$$

$$= \begin{cases} \frac{\cos 2x - 2 - |2|}{\sqrt{1+2^2}} & , x > 0 \\ \frac{\cos 2x + |2|}{-\sqrt{1+2^2}} & , x < 0 \end{cases}$$

$$\lim_{x \rightarrow 0} - \frac{1+|z|}{\sqrt{1+z^2}} \quad (\text{εξαρτάται από το } z)$$

Αρα το όριο της f_1 στο $(0,0)$ δεν υπάρχει, άρα ούτε της f .

$$\lim_{(x,y) \rightarrow (0,0)} \frac{e^{x \cos y} - x - \sqrt{x^2 + y^2} - 1}{|x| + |y|}$$

Εργάζομαστε όπως πριν:

$$f(x,y) = \underbrace{\frac{e^{x \cos y} - 1 - x \cos y}{|x| + |y|}}_{e(x,y)} + \underbrace{\frac{x \cos y - x - \sqrt{x^2 + y^2}}{|x| + |y|}}_{f_1(x,y)}$$

Όπως πριν, για (x,y) κοντά στο $(0,0)$,

$$|e(x,y)| \leq \frac{x^2 \cos^2 y}{|x| + |y|} \leq \frac{x^2}{|x| + |y|} \rightarrow 0$$

Για $x > 0$ έχουμε

$$\begin{aligned} f(x, \sqrt{x}) &= \frac{x \cos \sqrt{x} - x - x \sqrt{1+x^2}}{x + |x|} \\ &= \frac{\cos \sqrt{x} - 1 - \sqrt{1+x^2}}{1+|x|} \rightarrow - \frac{\sqrt{1+x^2}}{1+|x|} \end{aligned}$$

→ το όριο δεν υπάρχει

$$\lim_{(x,y) \rightarrow (0,0)} \frac{e^{x \cos y} - x - \sin(\sqrt{x^2+y^2}) - 1}{e^{|x+y|} - 1}$$

Εξομτc

$$f(x,y) = \frac{e^{x \cos y} - x - \sin \sqrt{x^2+y^2} - 1}{|x+y|}$$

$$\frac{|x+y| \cdot \frac{|x+y|}{e^{|x+y|} - 1}}$$

↓
1.

Για το μπιτανο χονοιφοροιοιτc ταν κνιοδ'ιττα.

$$|\sin t - t| < |t|^3$$

η ονοια ιοχια για τικρα t

$$\text{(2) } \sin t = t - \frac{\sin^3 t}{3!} \quad \begin{matrix} \xi \in (0,t) & (t > 0) \\ \xi \in (t,0) & (t < 0) \end{matrix}$$

Εξομτc για (x,y) κοντα οο (0,0)

$$f(x,y) = \frac{-\sin \sqrt{x^2+y^2} + \sqrt{x^2+y^2}}{|x+y|} \leftarrow e^{-e(x,y)}$$

$$+ \frac{e^{x \cos y} - x - \sqrt{x^2+y^2} - 1}{|x+y|}$$

← Δεσ οχα οριο ονο το κραιο οοιτc

Συν'

$$|e(x,y)| \leq \frac{(x^2+y^2)^{\frac{3}{2}}}{|x+y|} \leq \frac{(|x+y|^2)^{\frac{3}{2}}}{|x+y|} = (|x+y|)^2 \rightarrow 0$$

Αρα το οιο οο υνιοχα.

Άσκηση 3.10

Να υπολογιστεί το διαφορικό της $f(x,y) = x^y = e^{y \log x}$ στο τεύχος (x,y) , $x > 0$, $y \in \mathbb{R}$.

Είναι γενικό ότι f είναι διαφορίστη σε κάθε σημείο. Γνωρίζουμε ότι το διαφορικό $df(x,y)$ είναι η απεικόνιση από το \mathbb{R}^2 στο \mathbb{R} που ορίζεται από

$$[df(x,y)](h_1, h_2) = \nabla f(x,y) \cdot (h_1, h_2) = f_x(x,y)h_1 + f_y(x,y)h_2.$$

Υπολογίζουμε

$$f_x(x,y) = y x^{y-1}$$
$$f_y(x,y) = x^y \log x$$

Άρα

$$[df(x,y)](h_1, h_2) = y x^{y-1} h_1 + x^y \log x h_2$$

3.19 (iii) Να ενδιαφερθεί ο
καθόνας της αλυσίδας για την
 $f(x, y) = (\log x)^y$, $x = e^t$, $y = t$.

Έστω

$$g(t) = f(x(t), y(t))$$

Πρέπει να δείξουμε ότι

$$\begin{aligned} g'(t) &= \nabla f(x(t), y(t)) \cdot (x'(t), y'(t)) \\ &= f_x(x(t), y(t)) x'(t) + \\ &\quad + f_y(x(t), y(t)) y'(t). \end{aligned}$$

Έχουμε:

$$f_x(x, y) = \frac{y}{x} (\log x)^{y-1}$$

$$f_y(x, y) = (\log x)^y \cdot \log(\log x)$$

Άρα

$$f_x(x(t), y(t)) = \frac{t}{e^t} (\log e^t)^{t-1} = \frac{t^t}{e^t}$$

$$\begin{aligned} f_y(x(t), y(t)) &= (\log e^t)^t \log(\log e^t) \\ &= t^t \log t \end{aligned}$$

Enions $x(t) = e^t$, $y(t) = t$, $z \in \mathbb{R}$ 8

$$\begin{aligned} f_x(x(t), y(t))x'(t) + f_y(x(t), y(t))y'(t) &= \\ &= \frac{t^t}{e^t} \cdot e^t + t^t \log t = t^t (1 + \log t) \end{aligned}$$

Exo- t enions:

$$\begin{aligned} g(t) &= f(x(t), y(t)) = f(e^t, t) \\ &= (\log e^t)^t = t^t = e^{t \log t} \end{aligned}$$

$u \times 1$ $\mathbb{R} \times \mathbb{R}$

$$\begin{aligned} g'(t) &= e^{t \log t} (1 + \log t) \\ &= t^t (1 + \log t) \end{aligned}$$

Ada $10 \times 2 \times 1$.

Άσκηση 5.1 Δείξτε ότι η απεικόνιση 2

$$(u, v) \xrightarrow{T} (x, y) = (u^2 + v^5 + uv, u^2v + u + v^2)$$

αντιστρέφεται τοπικά κοντά στο $(0, 1)$

και ορίσει C^∞ συναρτήσεις $u(x, y)$, $v(x, y)$ για (x, y) κοντά στο $(1, 1)$. Επίσης υπολογίστε τις u_x, u_y, v_x, v_y στο $(1, 1)$.

Άρα εξαρτούμε του θεωρήματος αντίστροφης συναρτήσεως. Καταρχήν παρατηρούμε ότι $(0, 1) \rightarrow (1, 1)$.

Υπολογίζουμε την (2×2) ορίζουσα:

$$\frac{\partial(x, y)}{\partial(u, v)} = \begin{vmatrix} x_u & y_u \\ x_v & y_v \end{vmatrix} = \begin{vmatrix} 2u+v & 2uv+1 \\ 5v^4+u & u^2+2v \end{vmatrix}$$

άρα

$$\frac{\partial(x, y)}{\partial(u, v)} \Big|_{(0, 1)} = \begin{vmatrix} 1 & 1 \\ 5 & 2 \end{vmatrix} = -3 \neq 0.$$

Άρα υπάρχει η τοπική αντίστροφη και είναι C^∞ . Εφαρμόζουμε τη σχέση

$$(DT^{-1})(x, y) = [DT(T^{-1}(x, y))]^{-1}$$

Έχουμε άρα

$$(DT^{-1})(1, 1) = [DT(0, 1)]^{-1}$$

darstellen

10

$$\begin{bmatrix} u_x & v_x \\ u_y & v_y \end{bmatrix}_{(1,1)} = \begin{bmatrix} x_u & y_u \\ x_v & y_v \end{bmatrix}_{(1,1)}^{-1}$$

$$= \begin{bmatrix} 1 & 1 \\ 5 & 2 \end{bmatrix}^{-1} = \frac{1}{-3} \begin{bmatrix} 2 & -1 \\ -5 & 1 \end{bmatrix}$$

$$= \begin{bmatrix} -\frac{2}{3} & \frac{1}{3} \\ \frac{5}{3} & -\frac{1}{3} \end{bmatrix}$$

Apa

$$u_x(1,1) = -\frac{2}{3}$$

$$u_y(1,1) = \frac{5}{3}$$

$$v_x(1,1) = -\frac{1}{3}$$

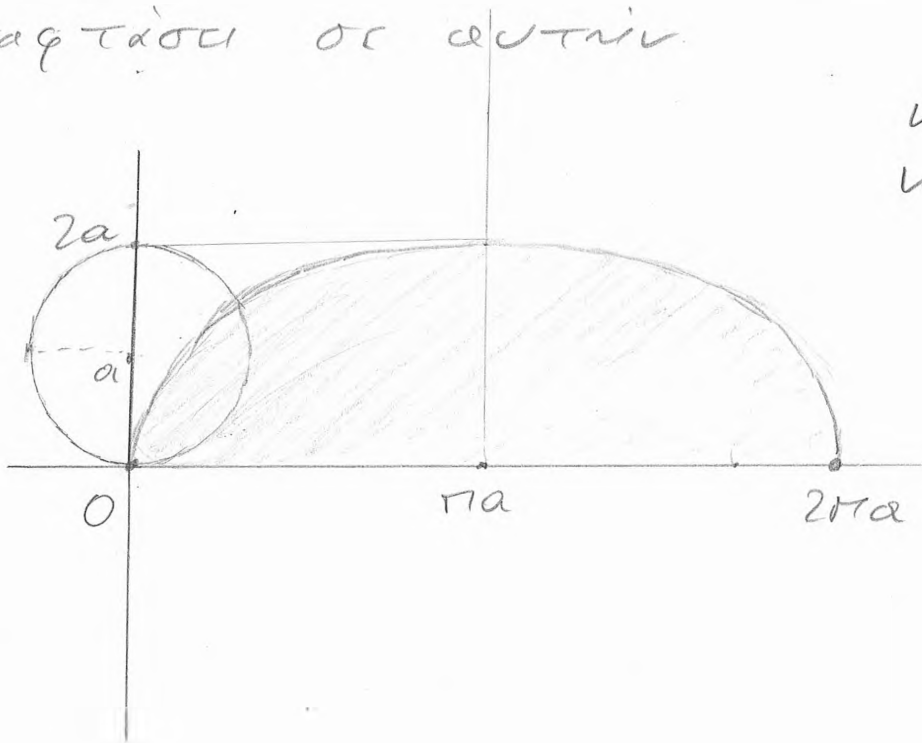
$$v_y(1,1) = -\frac{1}{3}$$

Μάθημα 26/5/20
(ΣΗΜΑΝΚΑΔΗΜΑΤΙΚΕΣ ΚΑΜΠΥΛΕΣ)

1. Να υπολογιστεί το εμβαδόν του χωρίου που ορίζεται από την καμπύλη $x=a(t-\sin t)$, $y=a(t-\cos t)$, $0 \leq t \leq \pi$, και τον οριζόντιο άξονα.

Παρατηρούμε: η κίνηση είναι αδροιστά.
Δύο κινήσεων: της ευθύγραμμης ομαλής κίνησης (at, a) και της κυκλικής κίνησης αρνητικής φοράς $(-a\sin t, -a\cos t)$.
Το αδροιστά είναι η κίνηση ενός σημείου στην περιφέρεια ενός τροχού, ξεκινώντας σε ένα σημείο με την ευθεία $y=0$ έως να ξαναφτάσει σε αυτήν.

Κυκλοειδής
καμπύλη



Τύπος του Green

$$\iint_D (Q_x - P_y) dx dy = \int_{\partial D} P dx + Q dy$$

Έστω $P(x,y) = 0$, $Q(x,y) = x$. Τότε
 $P_y = 0$, $Q_x = 1$, άρα

$$\epsilon\pi(D) = \iint_D dx dy = \int_{\partial D} x dy.$$

Εξούτι

$$\int_{\partial D} x dy = \int_I x dy - \int_J x dy$$

όπου I το ευθ. τμήμα με αρχή το $(0,0)$
και τέλος το $(2\pi a, 0)$ και J η κυ-
κλοειδής καμπύλη.

Το πρώτο $\int_I x dy = 0$. Άρα

$$\begin{aligned} \epsilon\pi(D) &= - \int_J x dy = - \int_0^{2\pi} a(t - \sin t) [a(1 - \cos t)] dt \\ &= -a^2 \int_0^{2\pi} (t \sin t - \sin^2 t) dt = 3\pi a^2 \end{aligned}$$

2. Να υπολογιστεί το

$$\iint_K \left(\frac{x^2}{a^2} + \frac{y^2}{b^2} \right)^{\lambda} dx dy$$

όπου $K = \left\{ (x, y) : \frac{x^2}{a^2} + \frac{y^2}{b^2} \leq 1 \right\}$, $\lambda \geq 0$.

Κάνουμε την αλλαγή συντεταγμένων

$$\begin{aligned} x &= a r \cos \theta \\ y &= b r \sin \theta \end{aligned} \quad (x, y) = T(r, \theta)$$

οπότε $T^{-1}(K) = \{ (r, \theta) : 0 \leq r \leq 1, 0 \leq \theta \leq 2\pi \}$.

Έχουμε

$$\begin{aligned} \left| \frac{\partial(x, y)}{\partial(r, \theta)} \right| &= \begin{vmatrix} x_r & x_\theta \\ y_r & y_\theta \end{vmatrix} = \begin{vmatrix} a \cos \theta & -a r \sin \theta \\ b \sin \theta & b r \cos \theta \end{vmatrix} \\ &= a b r. \end{aligned}$$

Άρα

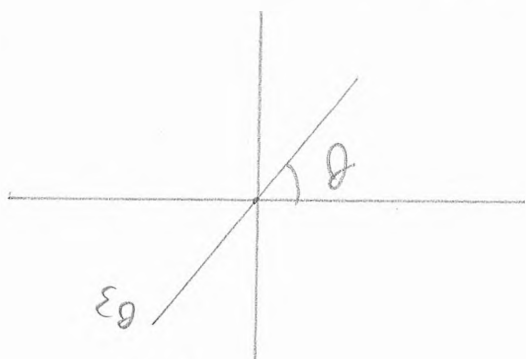
$$\iint_K \left(\frac{x^2}{a^2} + \frac{y^2}{b^2} \right)^{\lambda} dx dy = \iint_{T^{-1}(K)} r^{2\lambda} a b r dr d\theta$$

$$= a b \int_0^{2\pi} \int_0^1 r^{2\lambda+1} dr d\theta = \frac{\pi a b}{\lambda+1}$$

3. Να δείχθει ότι η $f(x,y) = (y-x^3)(y-2x^2)$ 4
 έχει τοπικό ελάχιστο στο $(0,0)$ κατά
 μήκος κάθε ευθείας (που διέρχεται από
 το $(0,0)$). αλλά δεν έχει τοπικό
 ελάχιστο στο $(0,0)$.

Κάθε ευθεία που διέρχεται από το $(0,0)$
 παραμετροποιείται ως

ε_θ : $x = t \cos \theta$, $y = t \sin \theta$, $t \in \mathbb{R}$,
 για κάποιο $\theta \in [0, 2\pi]$.



Οι τιμές της f κατά μήκος της ε_θ δι-
 νονται τότε από τη συνάρτηση

$$\begin{aligned}
 g_\theta(t) &= f(t \cos \theta, t \sin \theta) \\
 &= (t \sin \theta - t^2 \cos^2 \theta)(t \sin \theta - 2t^2 \cos^2 \theta) \\
 &= t^2 (\sin^2 \theta - 3t \sin \theta + t^2 \cos^4 \theta) \\
 &= t^2 h(t)
 \end{aligned}$$

5
Αν $\sin \theta \neq 0$ τότε $h(t) > 0$ για μικρά t ,
οπότε

$$g_\theta(t) = t^2 h(t) > 0 = g_\theta(0)$$

για μικρά t , $t \neq 0$

Αν $\sin \theta = 0$ τότε $g_\theta(t) = t^4$, οπότε και
πάλι έχει τοπικό ελάχιστο στο $t=0$.

Άρα σε κάθε περίπτωση (δηλ. $\forall \theta \in [0, 2\pi]$)
η $g_\theta(t)$ έχει τοπικό ελάχιστο στο $t=0$.

Όπως κάθε πύκνος της κερκεθούρας

$$y = \frac{3}{2}x^2 \text{ έχουμε}$$

$$f(x, \frac{3}{2}x^2) = (\frac{3}{2}x^2 - x^2)(\frac{3}{2}x^2 - 2x^2)$$

$$= -\frac{1}{4}x^2$$

$$\leq 0 = f(0, 0)$$

οπότε το $(0, 0)$ δεν είναι σημείο τοπικού
ελάχιστου της f .

Να εξετασθεί αν υπάρχει το

6

$$\lim_{(x,y) \rightarrow (0,0)} \frac{x^2}{x^2 + (x-y)^d}$$

Υπάρχει μεγάλη ελευθερία όσον αφορά το $(x-y)^d$.

Κατά μήκος της ευθείας $y=x$ το όριο είναι ένα

Κατά μήκος της καμπύλης $(x-y)^d = x^2$ το όριο είναι $\frac{1}{2}$.

Γράψτε την καμπύλη λίγο καλύτερα

Αν $x > 0$ τότε για να έχουμε

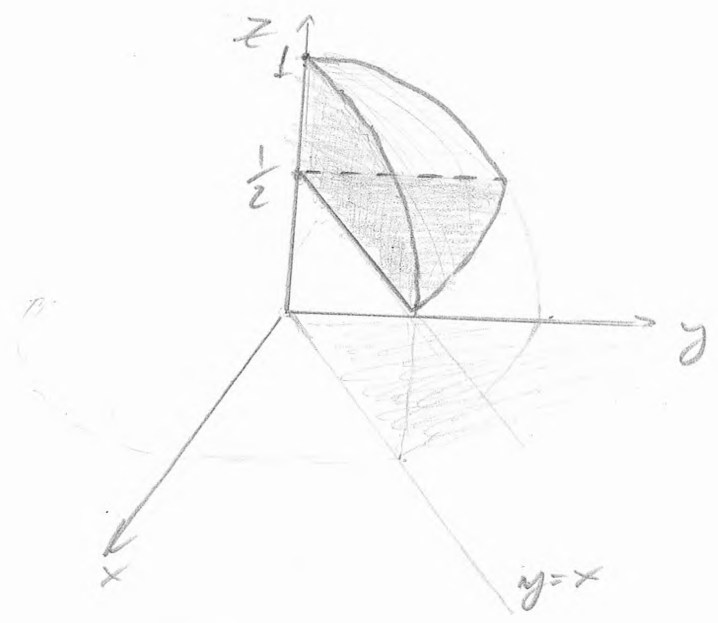
$$(x-y)^d = x^2$$

αρκεί $x-y = x^{\frac{2}{d}}$

Αρα θεωρούμε την καμπύλη $y = x - x^{\frac{2}{d}}$, $x > 0$.

Το όριο δεν υπάρχει.

Να υπολογιστεί το $\iiint_K x \, dV$
 όπου K το χωρικό χώρο που βρι-
 σκεται μέσα στη μοναδιαία σφαίρα, στο 1°
 βρίσκεται πάνω από το επίπεδο $z = \frac{1}{2}$
 και ανάμεσα στα επίπεδα $x=0$ και
 $y=x$



Το χώρο περιγράφεται από τις ανισό-
 τητες:

$$x^2 + y^2 + z^2 \leq 1, \quad z \geq \frac{1}{2}, \quad y \geq x, \quad x \geq 0$$

Σε σφαιρικές συντεταγμένες

$$\rho \leq 1, \quad \rho \cos \varphi \geq \frac{1}{2}, \quad \frac{\pi}{4} \leq \theta \leq \frac{\pi}{2}$$

To φ κυρταίνεται από $\varphi=0$ ως
 το οριζόντιο επίπεδο όπου $\rho \cos \varphi = \frac{1}{2}$ και $\rho=1$.
 άρα ως $\varphi = \frac{\pi}{3}$.

Συνεπώς

$$K = \left\{ (\rho, \varphi, \theta) : \frac{\pi}{4} \leq \theta \leq \frac{\pi}{2}, 0 \leq \varphi \leq \frac{\pi}{3}, \frac{1}{2 \cos \varphi} \leq \rho \leq 1 \right\}.$$

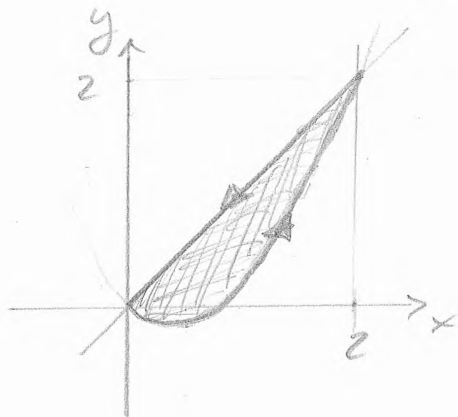
Άρα:

$$\begin{aligned} \iiint_K x \, dV &= \int_{\frac{\pi}{4}}^{\frac{\pi}{2}} \int_0^{\frac{\pi}{3}} \int_{\frac{1}{2 \cos \varphi}}^1 \rho \sin \varphi \cos \theta \cdot \rho^2 \sin \varphi \, d\rho \, d\varphi \, d\theta \\ &= \left(\int_{\frac{\pi}{4}}^{\frac{\pi}{2}} \cos \theta \, d\theta \right) \int_0^{\frac{\pi}{3}} \int_{\frac{1}{2 \cos \varphi}}^1 \rho^3 \sin^2 \varphi \, d\rho \, d\varphi \\ &= \left(1 - \frac{\sqrt{2}}{2}\right) \int_0^{\frac{\pi}{3}} \sin^2 \varphi \cdot \frac{1}{4} \left(1 - \frac{1}{16 \cos^4 \varphi}\right) d\varphi \\ &= \left(1 - \frac{\sqrt{2}}{2}\right) \left[\frac{1}{4} \int_0^{\frac{\pi}{3}} \sin^2 \varphi \, d\varphi - \frac{1}{64} \int_0^{\frac{\pi}{3}} \frac{\sin^2 \varphi}{\cos^4 \varphi} \, d\varphi \right] \\ &= \left(1 - \frac{\sqrt{2}}{2}\right) \left[\frac{1}{4} \left(\frac{\pi}{6} - \frac{\sqrt{3}}{8}\right) - \frac{\sqrt{3}}{64} \right] \end{aligned}$$

Να υπολογιστεί το

$$I = \int_{\partial G} (y^2 - x) dx + (x^2 - y) dy$$

όπου G το χωρίο που περιβάλλεται από τις καμπύλες $y = x^2 - x$ και $y = x$.



1^{ος} τρόπος: με τον ορισμό

2^{ος} τρόπος (πιο σύντομος): με το Green

$$\int_{\partial G} (y^2 - x) dx + (x^2 - y) dy =$$

$$= \iint_G [(x^2 - y)_x - (y^2 - x)_y] dx dy$$

$$= \iint_G (2x - 2y) dx dy = 2 \int_0^2 \int_{x^2-x}^x (x-y) dy dx$$

$$= 2 \int_0^2 \left[xy - \frac{y^2}{2} \right]_{x^2-x}^x dx = 2 \int_0^2 \left[x^2 - \frac{x^2}{2} - (x(x^2-x) - \frac{(x^2-x)^2}{2}) \right] dx$$

$$= 2 \int_0^2 (2x^2 - 2x^3 + \frac{x^4}{2}) dx = \frac{16}{15}$$

Να βρεθούν τα ολικά ακρότατα της $f(x,y) = x^3 + y^3 + 3x^2 - 3y^2$ στο τετράγωνο $\{(x,y) : |x| \leq 1, |y| \leq 1\}$.

Η f έχει ολικό μέγιστο και ολικό ελάχιστο στο τετράγωνο ως συνεχής συνάρτηση σε συμπαγές σύνολο.

Στην συγκεκριμένη περίπτωση είναι φανερό ότι

$$\max_{[-1,1] \times [-1,1]} f(x,y) = \max_{[-1,1]} (x^3 + 3x^2) + \max_{[-1,1]} (y^3 - 3y^2)$$

Το πρώτο μέγιστο f βγαίνει για $x=1$ και ισούται με 4. Επίσης το δεύτερο μέγιστο f βγαίνει για $y=0$ και ισούται με 0.

Άρα
$$\max_{[-1,1] \times [-1,1]} f = f(1,0) = 4.$$

Παρόμοια δουλεύουμε για το \min .

Παρατήρηση Για την άσκηση αυτή είχε σημασία όχι μόνο ότι η f έχει τη μορφή $g(x) + h(y)$ αλλά και ότι το χωρίο είναι ορθογώνιο

Θεωρείστε την καμπύλη στο \mathbb{R}^3 που είναι τομή των επιφανειών $z = y^2 - 3x^2$ και $z^2 + y^2 = 2$ και γράψτε παραμετρικές εξισώσεις για την εφαπτόμενη στην γ ευθεία στο σημείο $(0, 1, 1)$.

Η εφαπτόμενη στην γ ευθεία στο $(0, 1, 1)$ θα είναι η τομή των δύο εφαπτόμενων επιπέδων στο $(0, 1, 1)$.

Το υπερβολοειδές έχει εξίσωση

$$F(x, y, z) = 0 \quad \text{όπου} \quad F(x, y, z) = y^2 - 3x^2 - z$$

Η εξίσωση του εφαπτόμενου επιπέδου στο $(0, 1, 1)$ είναι

$$x F_x(0, 1, 1) + (y - 1) F_y(0, 1, 1) + (z - 1) F_z(0, 1, 1) = 0$$

Έχουμε

$$F_x = -6x \rightarrow F_x(0, 1, 1) = 0$$

$$F_y = 2y \rightarrow F_y(0, 1, 1) = 2$$

$$F_z = -1$$

Άρα η εξίσωση είναι

$$2(y - 1) - (z - 1) = 0 \Leftrightarrow \boxed{2y - z = 1}$$

Παράγεται για τον κύβινδρο: έχει
εξίσωση

$$G(x, y, z) = 0 \quad \text{όπου } G(x, y, z) = y^2 + z^2 - 2$$

και άρα (---) η εξίσωση του
εξαρτημένου επιπέδου είναι $y + z = 2$.

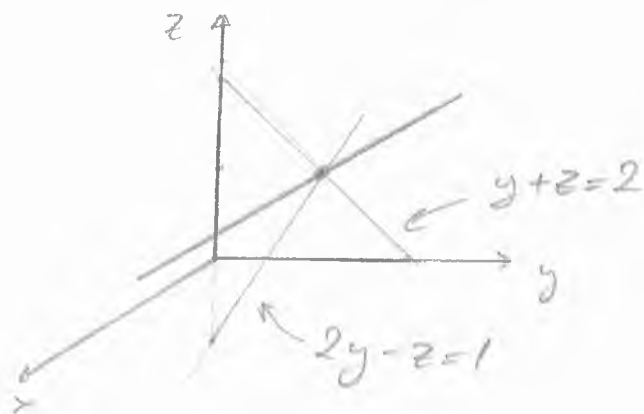
Άρα η εξαρτημένη ευθεία είναι η
τομή των επιπέδων

$$2y - z = 1$$

$$y + z = 2$$

Το παραπάνω σύστημα δίνει $y = z = 1$,
άρα η ευθεία είναι η

$$(x, 1, 1), \quad x \in \mathbb{R}.$$



Να δείχθει ότι για κάθε $p > 0$
υπάρχουν $c_1, c_2 > 0$ ώστε

$$c_1 (x^2 + y^2)^{\frac{1}{2}} \leq (|x|^p + |y|^p)^{\frac{1}{p}} \leq c_2 (x^2 + y^2)^{\frac{1}{2}}$$

$\forall (x, y) \in \mathbb{R}^2$.

Παρατήρηση: Το παραπάνω πρόβλημα είναι χρήσιμο για ασκήσεις όπου εφευρίσκονται συναρτήσεις της μορφής

$$f(x, y) = \frac{x^k y^l}{(|x|^p + |y|^p)^\theta}$$

για $k, l \in \mathbb{N}, \theta \in \mathbb{R}$ (οι παραπάνω αυτές)

Θα αποδείξουμε κάτι γενικότερο:

Έστω $f, g: \mathbb{R}^2 \rightarrow \mathbb{R}$ συνεχείς συναρτήσεις

τέτοιες ώστε

(i) $f(x, y) > 0, \forall (x, y) \neq (0, 0)$

(ii) $f(2x, 2y) = |2| f(x, y) \quad (2 \in \mathbb{R})$

(και όμοια για την g).

(π.χ. $f(x, y) = \left[(|x|^3 + 2|y|^3)^{\frac{5}{3}} + (|x| + |x+y|)^5 \right]^{\frac{1}{5}}$)

Τότε υπάρχουν $c_1, c_2 > 0$ ώστε

$$c_1 g(x, y) \leq f(x, y) \leq c_2 g(x, y)$$

για κάθε $(x, y) \in \mathbb{R}^2$.

Λύση: Η συνάρτηση $h = f/g$ είναι συνεχής σε φραγδιαία σφαίρα, συνεπώς είναι φραγμένη: $\exists c_2 > 0$ π.α.

$$\frac{f(x, y)}{g(x, y)} \leq c_2 \quad \text{αν} \quad x^2 + y^2 = 1.$$

Εστω τώρα $(x, y) \in \mathbb{R}^2$. Αν $(x, y) = (0, 0)$ τότε

$$f(x, y) = g(x, y) = 0$$

Εστω ότι $(x, y) \neq (0, 0)$. Τότε

$$f(x, y) = f\left(\sqrt{x^2+y^2} \frac{x}{\sqrt{x^2+y^2}}, \sqrt{x^2+y^2} \frac{y}{\sqrt{x^2+y^2}}\right)$$

$$= \sqrt{x^2+y^2} f\left(\frac{x}{\sqrt{x^2+y^2}}, \frac{y}{\sqrt{x^2+y^2}}\right)$$

$$\leq \sqrt{x^2+y^2} c_2 g\left(\frac{x}{\sqrt{x^2+y^2}}, \frac{y}{\sqrt{x^2+y^2}}\right)$$

$$= c_2 g(x, y)$$

Έστω $f(x,y) = \frac{x^5 y}{(1+xy^2)^2}$. Να υπο-

λογιστεί η $\frac{\partial^{15} f}{\partial x^8 \partial y^7}(0,0)$.

Λύση: Η Συνάρτηση φεικτιή κερζιγυρσ
 σχετιζεται με τον συντελεστή του
 $x^8 y^7$ στο πολυώνυμο Taylor (βαθμύ 15)
 της f ^{στο (0,0)} Διαιρώντας με το $x^5 y$,
 βλέπουμε ότι σχετιζεται με το
 συντελεστή του $\frac{x^8 y^7}{x^5 y} = x^3 y^6$ στο
 πολυώνυμο Taylor της $(1+xy^2)^{-2}$ στο (0,0).
 Το πολυώνυμο Taylor βαθμύ 3
 της $g(t) = (1+t)^{-2}$ υπολογίζεται εύκολα
 και είναι

$$P_3(t) = g(0) + g'(0)t + \frac{g''(0)}{2}t^2$$

$$= 1 - 2t + 3t^2 - 4t^3$$

Άρα (γ) το πολυώνυμο Taylor βαθμού 9 της $(1+xy^2)^{-2}$ γύρω από το $(0,0)$ είναι

$$P_3(xy^2) = 1 - 2xy^2 + 3x^2y^4 - 4x^3y^6$$

και άρα το πολυώνυμο Taylor βαθμού 15 της $f(x,y) = x^5y(1+xy^2)^{-2}$ είναι

$$x^5y(1 - 2xy^2 + 3x^2y^4 - 4x^3y^6) = x^5y - 2x^6y^3 + 3x^7y^5 - 4x^8y^7 =: \bar{P}_{15}(x,y)$$

Άρα ο συντελεστής του x^8y^7 είναι -4 .

Όπως, από τον γενικό τύπο, ο συντελεστής είναι [πολυδείκτης $d=(8,7)$]

$$\frac{1}{8!7!} \frac{\partial^{15} f}{\partial x^8 \partial y^7}(0,0)$$

Άρα

$$\frac{\partial^{15} f}{\partial x^8 \partial y^7} \Big|_{(0,0)} = -4 \cdot (8!)(7!) = -812.851.200$$

Απόδειξη ότι το $\bar{P}_{15}(x,y)$ είναι
το πολυώνυμο Taylor της $f(x,y)$
βαθμίου 15 γύρω από το $(0,0)$.
Αρκεί ν.δ.ο.

$$\frac{f(x,y) - \bar{P}_{15}(x,y)}{(x^2+y^2)^{15/2}} \xrightarrow{(x,y) \rightarrow (0,0)} 0$$

Έχουμε

$$\frac{f(x,y) - \bar{P}_{15}(x,y)}{(x^2+y^2)^{15/2}} = \frac{x^5 y [g(xy^2) - P_3(xy^2)]}{(x^2+y^2)^3 (x^2+y^2)^{9/2}}$$

Έχουμε

$$\frac{|x^5 y|}{(x^2+y^2)^3} \leq \frac{(x^2+y^2)^{5/2} (x^2+y^2)^{1/2}}{(x^2+y^2)^3} = 1.$$

οπότε αρκεί ν.δ.ο.

$$\frac{g(xy^2) - P_3(xy^2)}{(x^2+y^2)^{9/2}} \rightarrow 0$$

Επειδή (x,y) κοντά στο $(0,0)$.

Αν $xy^2=0$ τότε ο τελευταίος αριθμητής είναι μηδέν.

Έστω ότι $xy^2 \neq 0$. Τότε

$$\frac{g(xy^2) - P_3(xy^2)}{(x^2+y^2)^{3/2}} = \frac{g(xy^2) - P_3(xy^2)}{(xy^2)^3} \cdot \frac{x^3y^6}{(x^2+y^2)^{3/2}}$$

Έχουμε (όπως πιο πάνω)

$$\left| \frac{x^3y^6}{(x^2+y^2)^{3/2}} \right| \leq 1$$

ενν

$$\frac{g(xy^2) - P_3(xy^2)}{(xy^2)^3} \xrightarrow[\substack{(x,y) \rightarrow (0,0) \\ xy^2 \neq 0}]{0}$$

Ποίω του ότι

$$\frac{g(t) - P_3(t)}{t^3} \rightarrow 0$$

Άρα έχουμε το ζητούμενο

1

Μάθημα 2/6/20

1. Να βρεθεί καννι και αναγκαία συνθήκες
στα $\alpha, \beta, \gamma > 0$ ώστε η συνάρτηση

$$f(x,y) = \begin{cases} \frac{|x|^\alpha |y|^\beta}{(x^2+y^2)^\gamma} & , (x,y) \neq (0,0) \\ 0 & , (x,y) = (0,0) \end{cases}$$

να είναι διαφορίσιμη στο $(0,0)$

Λύση. Έχουμε

$$\frac{f(x,0) - f(0,0)}{x} = 0 \quad , \quad \forall x \neq 0$$

$$\frac{f(0,y) - f(0,0)}{y} = 0 \quad , \quad \forall y \neq 0$$

$$\text{οπότε } f_x(0,0) = f_y(0,0) = 0.$$

Συνεπώς η f είναι διαφορίσιμη στο $(0,0)$
αν και μόνο αν

$$\frac{f(x,y)}{\sqrt{x^2+y^2}} \xrightarrow{(x,y) \rightarrow (0,0)} 0$$

δηλαδή αν

$$\frac{|x|^\alpha |y|^\beta}{(x^2+y^2)^{\gamma+\frac{1}{2}}} \xrightarrow{(x,y) \rightarrow (0,0)} 0$$

2

Για $y=2x$ έχουμε

$$\frac{f(x,y)}{\sqrt{x^2+y^2}} = \frac{|x|^\alpha |2x|^\beta}{(x^2+2^2x^2)^{\delta+\frac{1}{2}}}$$

$$= \frac{|2|}{(1+2^2)^{\delta+\frac{1}{2}}} \cdot |x|^{\alpha+\beta-2\delta-1}$$

Έστω ότι αν $\alpha+\beta-2\delta-1 \leq 0$ τότε n & f δεν είναι διαφορίσιμη στο $(0,0)$.
Έστω ότι $\alpha+\beta-2\delta-1 > 0$. Τότε, αφού

$$|x|, |y| \leq \sqrt{x^2+y^2},$$

ορίζουμε

$$\frac{|x|^\alpha |y|^\beta}{(x^2+y^2)^{\delta+\frac{1}{2}}} \leq \frac{(x^2+y^2)^{\frac{\alpha}{2}} (x^2+y^2)^{\frac{\beta}{2}}}{(x^2+y^2)^{\delta+\frac{1}{2}}}$$

$$= (x^2+y^2)^{\frac{1}{2}(\alpha+\beta-2\delta-1)}$$

$$\longrightarrow 0$$

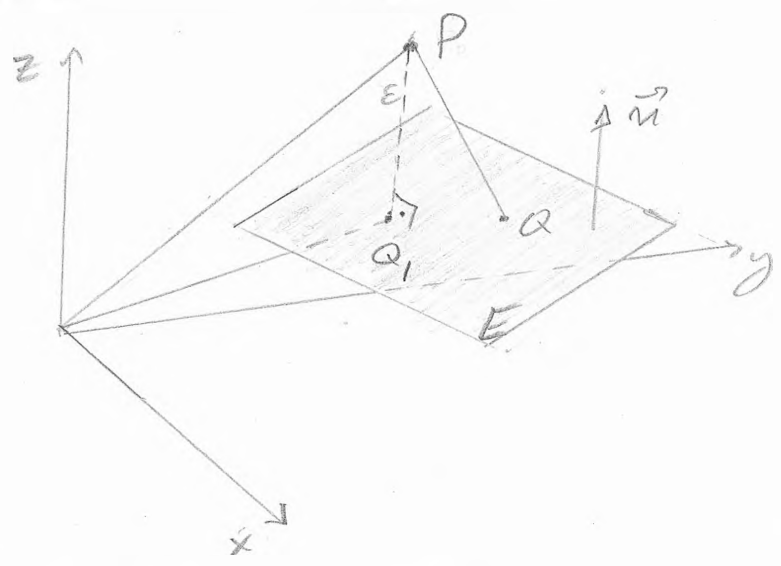
$$(x,y) \rightarrow (0,0)$$

Άρα n & f είναι διαφορίσιμη στο $(0,0)$
αν και μόνο αν $\alpha+\beta > 2\delta+1$.

2. Δείξτε ότι η απόσταση του σημείου $P = (x_0, y_0, z_0) \in \mathbb{R}^3$ από το επίπεδο $Ax + By + Cz + D = 0$ είναι

$$\frac{|Ax_0 + By_0 + Cz_0 + D|}{\sqrt{A^2 + B^2 + C^2}}$$

Λύση Γνωρίζουμε ότι το διάνυσμα $\vec{n} = (A, B, C)$ είναι κάθετο στο επίπεδο. Συνεπώς αν $Q, Q' \in E$ τότε $\overrightarrow{QQ'} \cdot \vec{n} = 0$



Εξ ορισμού η απόσταση του $P = (x_0, y_0, z_0)$ από το E είναι το

$$\inf \{ \| \vec{PQ} \| : Q \in E \}$$

Θεωρούμε το $Q_1 \in E$ το οποίο ανήκει στην ταύτη του E με την ευθεία ϵ που διέρχεται από το P και είναι παράλληλη με το \vec{n} .

Η ε δίνεται παραμετρικά ως

$$\varepsilon: \vec{OP} + t\vec{v}, \quad t \in \mathbb{R}$$

δηλαδή

$$x(t) = x_0 + tA$$

$$y(t) = y_0 + tB$$

$$z(t) = z_0 + t\Gamma$$

Για να ισχύει $(x(t), y(t), z(t)) \in E$ πρέπει

$$Ax(t) + By(t) + \Gamma z(t) + \Delta = 0$$

$$\Leftrightarrow A(x_0 + tA) + B(y_0 + tB) + \Gamma(z_0 + t\Gamma) + \Delta = 0$$

$$\Leftrightarrow t = - \frac{Ax_0 + By_0 + \Gamma z_0 + \Delta}{A^2 + B^2 + \Gamma^2} =: t_1$$

Ισχύει

$$\|\vec{PQ}_1\| = \|\vec{OQ}_1 - \vec{OP}\|$$

$$= \|(x(t_1), y(t_1), z(t_1)) - (x_0, y_0, z_0)\|$$

$$= |t_1| \cdot \|(A, B, \Gamma)\|$$

$$= \frac{|Ax_0 + By_0 + \Gamma z_0 + \Delta|}{\sqrt{A^2 + B^2 + \Gamma^2}}$$

Συνεπώς αρκεί να δείξουμε ότι

$$\|\vec{PQ}\| \geq \|\vec{PQ}_1\|, \quad \forall Q \in E$$

Έστω λοιπόν $Q \in E$. Τότε

$$\|\vec{PQ}\|^2 = \|\vec{PQ}_1 - \vec{QQ}_1\|^2$$

$$= \|\vec{PQ}_1\|^2 - 2 \vec{PQ}_1 \cdot \vec{QQ}_1 + \|\vec{QQ}_1\|^2$$

$$= \|\vec{PQ}_1\|^2 + \|\vec{QQ}_1\|^2 \quad (\text{αφαι } \vec{PQ}_1 \perp \vec{QQ}_1)$$

$$\geq \|\vec{PQ}_1\|^2$$

3. Έστω $\alpha, \beta > 0$ και $f: \mathbb{R} \rightarrow \mathbb{R}$ συνεχής

Έστω $A = \{(x, y) : x \geq 0, y \geq 0, x + y \leq 1\}$.

Να δείχθει ότι

$$\iint_A x^\alpha y^\beta f(x+y) dx dy =$$

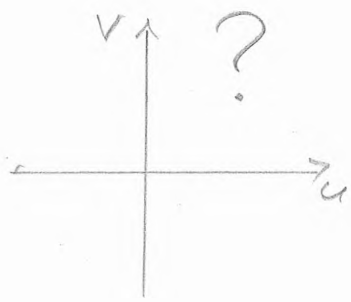
$$= \left(\int_0^1 u^{\alpha+\beta+1} f(u) du \right) \left(\int_0^1 v^\alpha (1-v)^\beta dv \right)$$

Υπόδειξη θεωρήστε το μετασχηματισμό

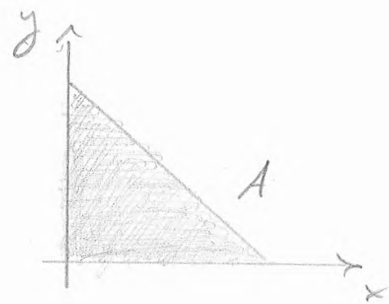
$$x = uv, \quad y = u(1-v).$$

Λίστα. Έστω T ο φετακοχνηματισμός.

6



T
→



Αναζητούμε το $T^{-1}(A)$ καθώς επίσης και
το αν ο T είναι 1-1

Έχουμε

$$\left. \begin{array}{l} x = u + v \\ y = u - v \end{array} \right\} \Rightarrow u = \frac{x+y}{2}, \quad v = \frac{x-y}{2}$$

(αν $x+y \neq 0$,
δηλ. $(x,y) \neq (0,0)$)

Παρατηρούμε ότι

$$[x \geq 0, y \geq 0, x+y \leq 1] \Leftrightarrow [0 \leq u \leq 1, 0 \leq v \leq 1]$$

$$\text{άρα } T^{-1}(A) = \{(u,v) : 0 \leq u \leq 1, 0 \leq v \leq 1\}.$$

Επιπλέον ο T είναι 1-1. (αφού τα u, v
με $T(u,v) = (x,y)$ ορίζονται μονοσήματα
(με την εξαίρεση αν $(x,y) = (0,0)$).

Υπολογίζουμε την Ιακωβιανή ορίσους:

Εξάγετε

$$\frac{\partial(x,y)}{\partial(u,v)} = \begin{vmatrix} x_u & x_v \\ y_u & y_v \end{vmatrix} = \begin{vmatrix} v & u \\ 1-v & -u \end{vmatrix} = -u.$$

Αρα, από τον τύπο αλλαγής μεταβλητών
εξάγετε

$$\iint_A x^\alpha y^\beta f(x+y) dx dy =$$

$$= \iint_{T^{-1}(A)} (uv)^\alpha u^\beta (1-v)^\beta f(u) \left| \frac{\partial(x,y)}{\partial(u,v)} \right| du dv$$

$$= \iint_{[0,1] \times [0,1]} (uv)^\alpha u^\beta (1-v)^\beta f(u) u du dv$$

$$= \int_0^1 u^{\alpha+\beta+1} f(u) du \cdot \int_0^1 v^\alpha (1-v)^\beta dv$$

4. Έστω $\alpha \in \mathbb{R}$ και $f \in C^1(\mathbb{R}^n \setminus \{\vec{0}\})$ τέτοια
ώστε $f(\vec{x}) > 0$ και

$$(*) \quad \sum_{j=1}^n x_j f_{x_j}(\vec{x}) = \alpha f(\vec{x}), \quad \forall \vec{x} \in \mathbb{R}^n \setminus \{\vec{0}\}$$

Να δείξει ότι υπάρχουν $A, \theta > 0$
ώστε

$$A \|\vec{x}\|^\alpha \leq f(\vec{x}) \leq \theta \|\vec{x}\|^\alpha, \quad \forall \vec{x} \in \mathbb{R}^n \setminus \{\vec{0}\}$$

Λύση. Η σχέση (*) που δίνεται δείχνει
το συμπέρασμα της άσκησης 4 του
δευτέρου γύρου ασκήσεων.

Επίσης η Σιτούφενσ σχεση δείχνει
τη σχέση στη σελ 14 του παθιατα
της 26.5.20.

Θα δείξουμε ότι

$$f(t\vec{x}) = t^\alpha f(\vec{x}), \quad \forall t > 0, \forall \vec{x} \neq \vec{0}$$

Έστω $\vec{x} \in \mathbb{R}^n \setminus \{\vec{0}\}$. Ορίζουμε

$$g(t) = f(t\vec{x}), \quad t > 0.$$

Η g είναι διαφορίσιμη και από τον
κανόνα της αλυσίδας

$$\begin{aligned}
 g'(t) &= \vec{x} \cdot \nabla f(t\vec{x}) \\
 &= \frac{1}{t} (t\vec{x}) \cdot \nabla f(t\vec{x}) \\
 &\stackrel{(*)}{=} \frac{1}{t} \alpha f(t\vec{x}) \\
 &= \frac{\alpha}{t} g(t).
 \end{aligned}$$

Δηλώνω: $g'(t)/g(t) = \frac{\alpha}{t}$

Δηλώνω: $\frac{d}{dt} \ln g(t) = \frac{d}{dt} \ln t^\alpha$

Άρα: $\ln g(t) = \ln t^\alpha + c_1$

έπει $g(t) = e^{c_1} t^\alpha$

δηλ $g(t) = c t^\alpha, \quad \forall t > 0$

Αναγκαστικά $c = g(1) = f(\vec{x})$. Άρα δείξτε
 ότι

$$f(t\vec{x}) = t^\alpha f(\vec{x}), \quad \forall t > 0, \forall \vec{x} \in \mathbb{R}^n \setminus \{0\}.$$

(δεν έχουμε το αντίστροφο να δείξουμε άμεσα)

Εργαστήριο 13, 26/5/20.

Ορίστε

$$h(x) = \frac{f(x)}{\|x\|^2}, \quad x \in \mathbb{R}^n \setminus \{0\}$$

Η h είναι συνεχής και θετική σε μοναδιαία στοιχεία $\{x \in \mathbb{R}^n; \|x\|=1\} = S$
δε $\exists A, \theta > 0$ π.ω.

$$A \leq h(x) \leq B, \quad \forall x \in S$$

Έστω τώρα $x \in \mathbb{R}^n \setminus \{0\}$. Τότε

$$A \leq h\left(\frac{x}{\|x\|}\right) \leq B.$$

Οπώς

$$h\left(\frac{x}{\|x\|}\right) = f\left(\frac{x}{\|x\|}\right) = \frac{1}{\|x\|^2} f(x).$$

Άρα

$$A \|x\|^2 \leq f(x) \leq B \|x\|^2.$$

5. Σχεδιάστε τις καμπύλες σταθμής
 $\{(x,y) : f(x,y)=c\}$ για $c=0$, για κάποιο
 $c > 0$ και για κάποιο $c < 0$ για την
 συνάρτηση:

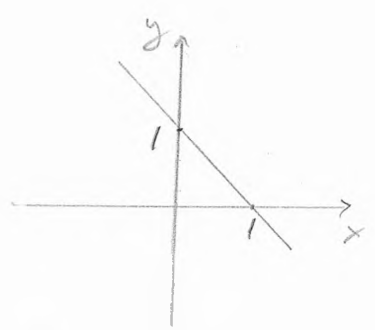
(α) $f(x,y) = 1 - (x+y)$

(β) $f(x,y) = x^2 + y^2$

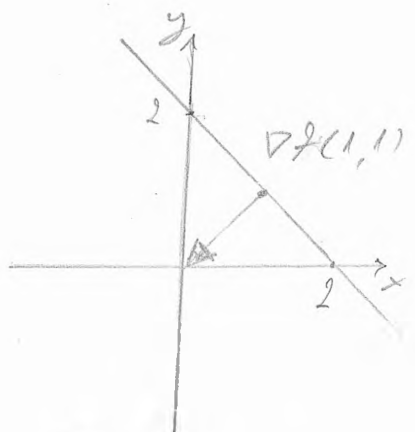
(γ) $f(x,y) = x^2 - y^2$

Να γίνει επίσης το γραφικό της κάθε
 συνάρτησης και να σχεδιαστεί το
 $\nabla f(1,1)$ (στο (x,y) -επίπεδο).

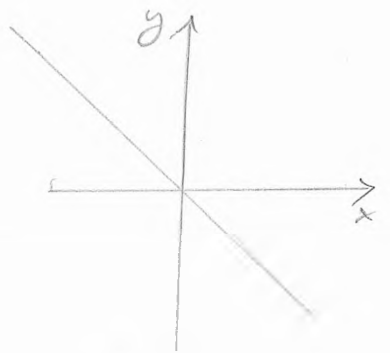
(α)



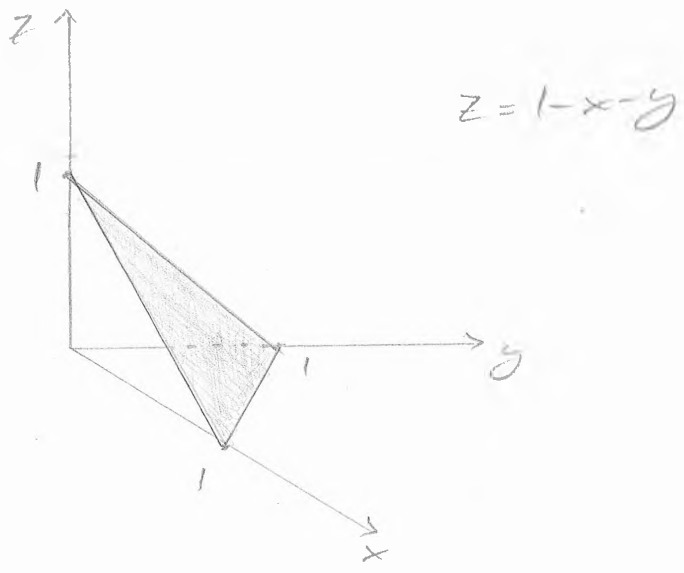
$f(x,y)=0$




$f(x,y)=-1$



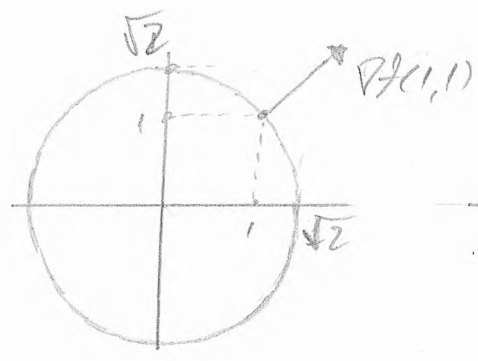
$f(x,y)=1$



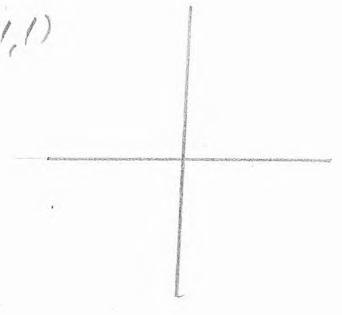
(6)



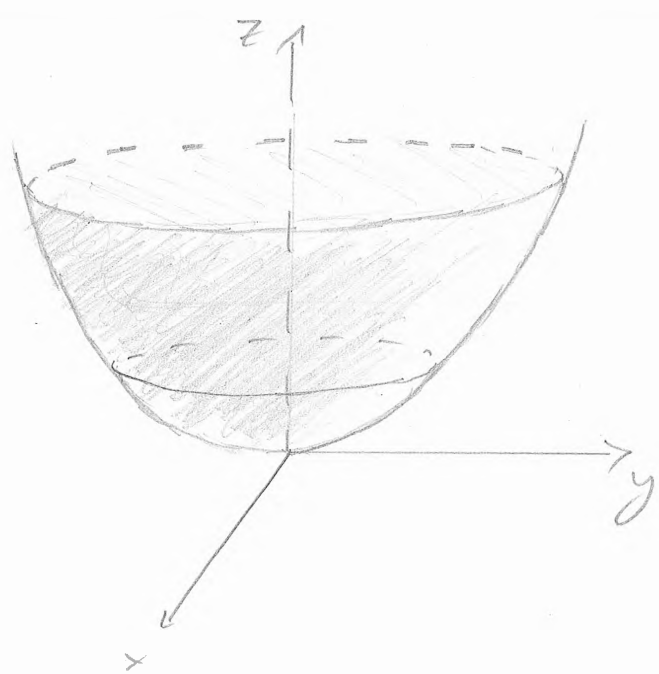
$x^2 + y^2 = 0$



$x^2 + y^2 = 2$

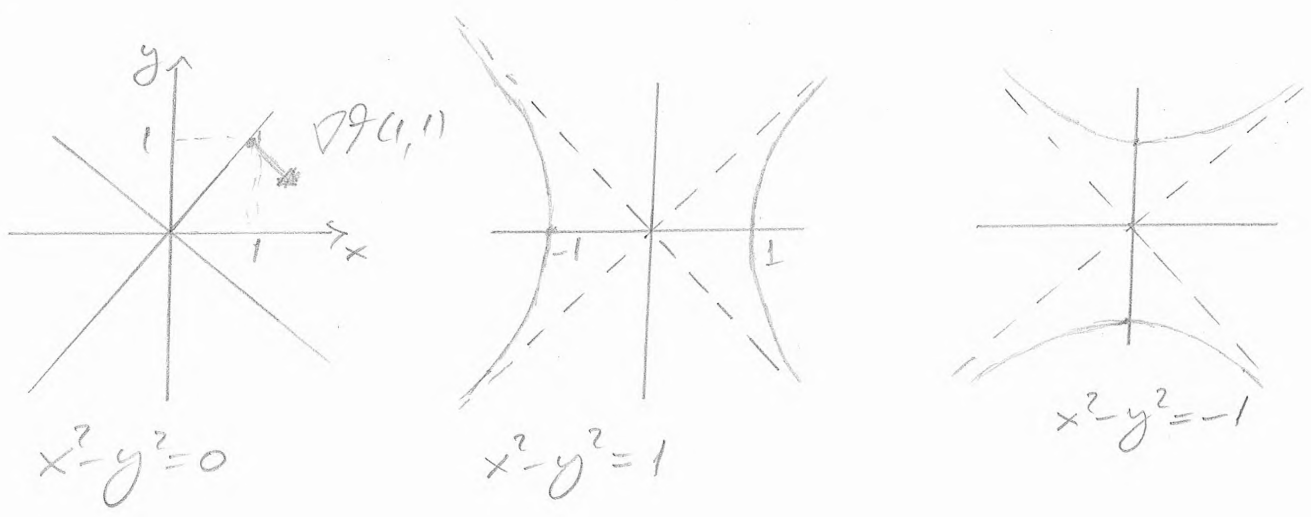


$x^2 + y^2 = -1$



$z = x^2 + y^2$

8)



$z = x^2 - y^2 \rightarrow$ θίντεο / δίκτυο

6. Να δοθεί παράδειγμα συνάρτησης $f(x,y)$ ώστε οι f_{xy} , f_{yx} να υπάρχουν και να είναι συνεχείς στο \mathbb{R}^2 ενώ οι f_{xx} , f_{yy} να μην υπάρχουν στο $(0,0)$.

Λύση. Θεωρούμε συνάρτηση

$f: \mathbb{R} \rightarrow \mathbb{R}$ τέτοια ώστε

- (i) η f' υπάρχει και είναι συνεχής στο \mathbb{R}
- (ii) η f'' δεν υπάρχει στο $(0,0)$
- (iii) $f(0) \neq 0$.

(π.χ. $f(t) = \begin{cases} 1+t^2, & t \geq 0 \\ 1-t^2, & t < 0 \end{cases} \rightarrow f'(t) = 2|t|$)

Η συνάρτηση

$$f(x,y) = \varphi(x)\varphi(y)$$

είναι τότε C¹ και γαλιονα

$$f_x(x,y) = \varphi'(x)\varphi(y), \quad f_y(x,y) = \varphi(x)\varphi'(y)$$

$$f_{xy}(x,y) = f_{yx}(x,y) = \varphi'(x)\varphi'(y)$$

Ομως η $f_{xx}(0,0)$ δεν υπάρχει :

$$\frac{f_x(x,0) - f_x(0,0)}{x} = \frac{\varphi'(x)\varphi(0) - \varphi'(0)\varphi(0)}{x}$$

$$= \varphi(0) \frac{\varphi'(x) - \varphi'(0)}{x}$$

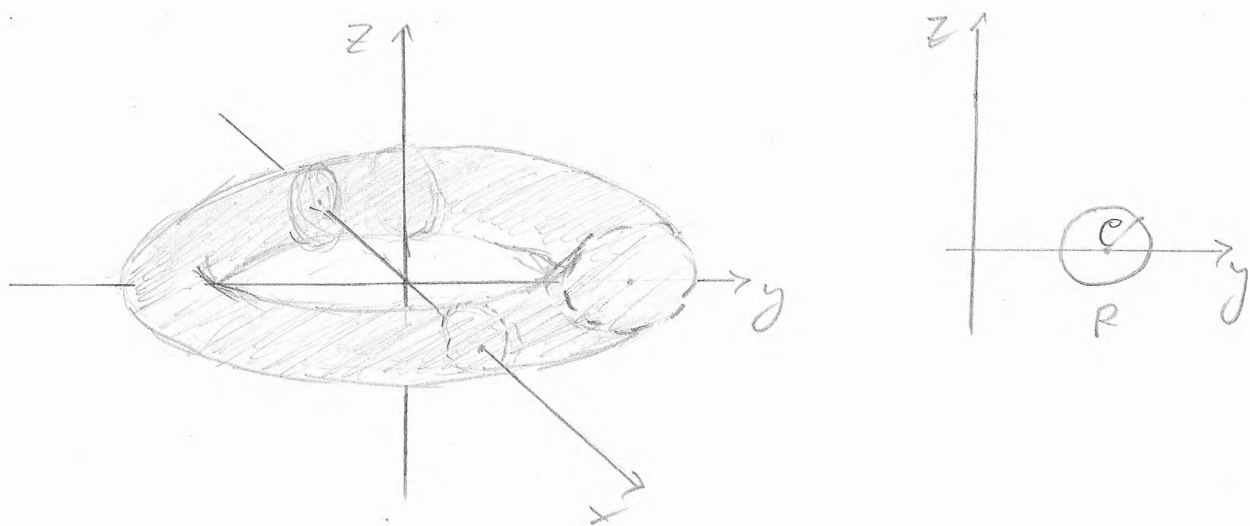
το οποίο δεν έχει όριο καθώς $x \rightarrow 0$.

Άρα δεν υπάρχει το $f_{yy}(0,0)$.

f(x)

7. Έστω $R > \rho > 0$. Να υπολογιστεί
 ο όγκος του τόρου που προκύπτει
 από την περιστροφή γύρω από τον
 z -αξονά του δίσκου

$$\{(y, z) : (y-R)^2 + z^2 \leq \rho^2\}$$



Άρα

$$T = \{(x, y, z) : (\sqrt{x^2 + y^2} - R)^2 + z^2 \leq \rho^2\}$$

Σε κυλινδρικές συντεταγμένες:

$$T = \{(r, \theta, z) : (r - R)^2 + z^2 \leq \rho^2\}$$

$$= \{(r, z) : (r - R)^2 + z^2 \leq \rho^2\} \times [0, 2\pi]$$

$$= E_{R, \rho} \times [0, 2\pi]$$

Area

$$\text{vol}(T) = \iiint_T r \, dr \, dz \, d\theta$$

(σε) 42 ουσιαστικα)

$$= \iint_{E_{R,e}} \int_0^{2\pi} r \, d\theta \, dr \, dz$$

$$= 2\pi \iint_{E_{R,e}} r \, dr \, dz$$

Χαρακτηριστικη πολικη ομοιομορφια στο (r, z) -επιπεδο: ηε κεντρο το $(R, 0)$:

$$r = R + t \cos \omega$$

$$z = t \sin \omega.$$

Τότε

$$(r, z) \in E_{R,e} \Leftrightarrow \begin{cases} 0 \leq t \leq e \\ 0 \leq \omega \leq 2\pi \end{cases}$$

Area

$$\iint_{E_{R,e}} r \, dr \, dz = \int_0^e \int_0^{2\pi} (R + t \cos \omega) \left| \frac{\partial(r, z)}{\partial(t, \omega)} \right| \, d\omega \, dt$$

$$= \int_0^{\rho} \int_0^{2\pi} (R + t \cos \omega) t \, d\omega \, dt$$

$$= R \int_0^{\rho} \int_0^{2\pi} t \, d\omega \, dt$$

$$= 2\pi R \frac{\rho^2}{2}$$

Αρα τελικά

$$\text{Vol}(T) = 2\pi \cdot 2\pi R \frac{\rho^2}{2}$$

$$= 2\pi^2 \rho^2 R$$

8. Θεωρείστε το διανυσματικό πεδίο

$$\vec{F} = \left(-\frac{y}{x^2+y^2}, \frac{x}{x^2+y^2}, z \right) \text{ το οποίο}$$

ορίζεται στο $\underline{D} = \mathbb{R}^3 \setminus \{(0,0,z) : z \in \mathbb{R}\}$.

(α) Υπολογίστε το $\text{curl}(\vec{F})$.

(β) Υπολογίστε το $\int_{\gamma} \vec{F} \cdot d\vec{r}$ όπου γ ο κύβος $z=1, x^2+y^2=1$, με θετική φορά

(γ) Εξετάστε αν το διανυσματικό πεδίο είναι συντηρητικό

Λίστα α) Με αυτές προϋποθέσεις
βρίσκουμε ότι $\text{curl } \vec{F} = \vec{0}$.

(β). Μια παραμετρικοποίηση της γ είναι

$$\vec{\gamma}(t) = (\cos t, \sin t, 1), \quad 0 \leq t \leq 2\pi.$$

Ισχύει $\vec{\gamma}'(t) = (-\sin t, \cos t, 0)$, και έχω

$$\begin{aligned} \int_0^{2\pi} \vec{F} \cdot d\vec{r} &= \int_0^{2\pi} (-\sin t, \cos t, 1) \cdot (-\sin t, \cos t, 0) dt \\ &= 2\pi \end{aligned}$$

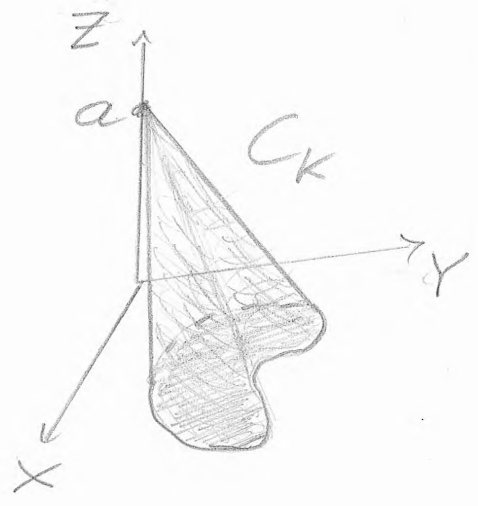

(γ). Έπεται από το (β) ότι το διανυσματικό πεδίο δεν είναι συντηρητικό.

9. Έστω $K \subset \mathbb{R}^2$ κλειστό και γραμμικό, με τμηματικό οφασμό σύνορο, και $a > 0$. Έστω

$$C_K = \{(tx, ty, a(1-t)) : (x, y) \in K, 0 \leq t \leq 1\}$$

Να εκφραστεί ο όγκος του C_K συναρτήσει του εμβαδού του K και του a .

Γεωμετρική ερμηνεία: για κάθε $(x,y) \in K$ το σύνολο $\{(tx, ty, a(1-t)) : 0 \leq t \leq 1\}$ είναι το ευθύγραμμο τμήμα με άκρα το $(0,0,a)$ και το $(x,y,0)$.



Θεωρούμε το παραδοχματισμό

$$T: K \times [0,1] \rightarrow C_K = (x,y,z)$$

όπου $T(x,y,t) = (tx, ty, a(1-t))$ $\begin{matrix} (x,y) \in K \\ 0 \leq t \leq 1 \end{matrix}$

Ο T είναι C^1 , 1-1 και επί.

Επίσης

$$\frac{\partial(x,y,z)}{\partial(x,y,t)} = \begin{vmatrix} X_x & X_y & X_t \\ Y_x & Y_y & Y_t \\ Z_x & Z_y & Z_t \end{vmatrix}$$

$$= \begin{vmatrix} t & 0 & x \\ 0 & t & y \\ 0 & 0 & -a \end{vmatrix} = -at^2$$

Area

$$\text{vol}(C_k) = \iiint_{C_k} dx dy dz$$

$$= \iiint_{K \times [0,1]} \left| \frac{\partial(x,y,z)}{\partial(x,y,t)} \right| dx dy dt$$

$$= \iiint_{K \times [0,1]} at^2 dx dy dt =$$

$$= a \left(\int_0^1 t^2 dt \right) \left(\iint_K dx dy \right)$$

$$= \frac{1}{3} a \text{er}(K)$$